

1. В файле приведён фрагмент базы данных «Продукты» о поставках товаров в магазины районов города. База данных состоит из трёх таблиц.

Задание 3

Таблица «Движение товаров» содержит записи о поставках товаров в магазины в течение первой декады июня 2021 г., а также информацию о проданных товарах. Поле *Тип операции* содержит значение *Поступление* или *Продажа*, а в соответствующее поле *Количество упаковок, шт.* занесена информация о том, сколько упаковок товара поступило в магазин или было продано в течение дня. Заголовок таблицы имеет следующий вид.

ID операции	Дата	ID магазина	Артикул	Тип операции	Количество упаковок, шт.	Цена, руб./шт.
-------------	------	-------------	---------	--------------	--------------------------	----------------

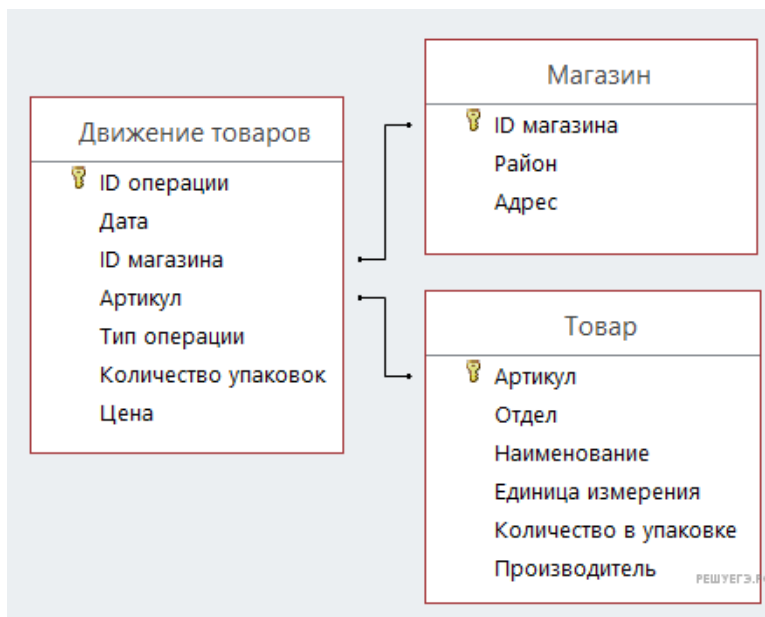
Таблица «Товар» содержит информацию об основных характеристиках каждого товара. Заголовок таблицы имеет следующий вид.

Артикул	Отдел	Наименование	Ед. изм.	Количество в упаковке	Поставщик
---------	-------	--------------	----------	-----------------------	-----------

Таблица «Магазин» содержит информацию о местонахождении магазинов. Заголовок таблицы имеет следующий вид.

ID магазина	Район	Адрес
-------------	-------	-------

На рисунке приведена схема указанной базы данных.



Используя информацию из приведённой базы данных, определите, на сколько увеличилось количество упаковок яиц диетических, имеющих в наличии в магазинах Заречного района за период с 1 по 10 июня.

В ответе запишите только число.

2. В файле приведён фрагмент базы данных «Продукты» о поставках товаров в магазины районов города. База данных состоит из трёх таблиц.

Задание 3

Таблица «Движение товаров» содержит записи о поставках товаров в магазины в течение первой декады июня 2021 г., а также информацию о проданных товарах. Поле *Тип операции* содержит значение *Поступление* или *Продажа*, а в соответствующее поле *Количество упаковок, шт.* занесена информация о том, сколько упаковок товара поступило в магазин или было продано в течение дня. Заголовок таблицы имеет следующий вид.

ID операции	Дата	ID магазина	Артикул	Тип операции	Количество упаковок, шт.	Цена, руб./шт.
-------------	------	-------------	---------	--------------	--------------------------	----------------

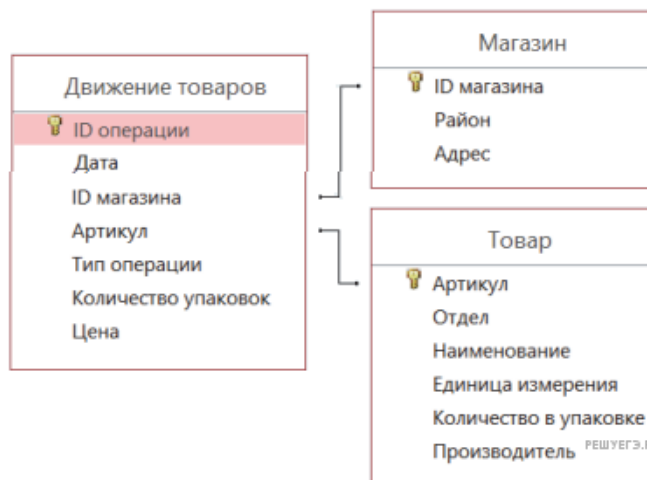
Таблица «Товар» содержит информацию об основных характеристиках каждого товара. Заголовок таблицы имеет следующий вид.

Артикул	Отдел	Наименование	Ед. изм.	Количество в упаковке	Поставщик
---------	-------	--------------	----------	-----------------------	-----------

Таблица «Магазин» содержит информацию о местонахождении магазинов. Заголовок таблицы имеет следующий вид.

ID магазина	Район	Адрес
-------------	-------	-------

На рисунке приведена схема указанной базы данных.



Используя информацию из приведённой базы данных, определите, сколько килограммов паштета из куриной печени было продано в магазинах Заречного района за период с 1 по 10 июня включительно.

В ответе запишите только число.

3. В файле приведён фрагмент базы данных «Продукты» о поставках товаров в магазины районов города. База данных состоит из трёх таблиц.

Задание 3

Таблица «Движение товаров» содержит записи о поставках товаров в магазины в течение первой декады июня 2021 г., а также информацию о проданных товарах. Поле *Тип операции* содержит значение *Поступление* или *Продажа*, а в соответствующее поле *Количество упаковок, шт.* занесена информация о том, сколько упаковок товара поступило в магазин или было продано в течение дня. Заголовок таблицы имеет следующий вид.

ID операции	Дата	ID магазина	Артикул	Тип операции	Количество упаковок, шт.	Цена, руб./шт.
-------------	------	-------------	---------	--------------	--------------------------	----------------

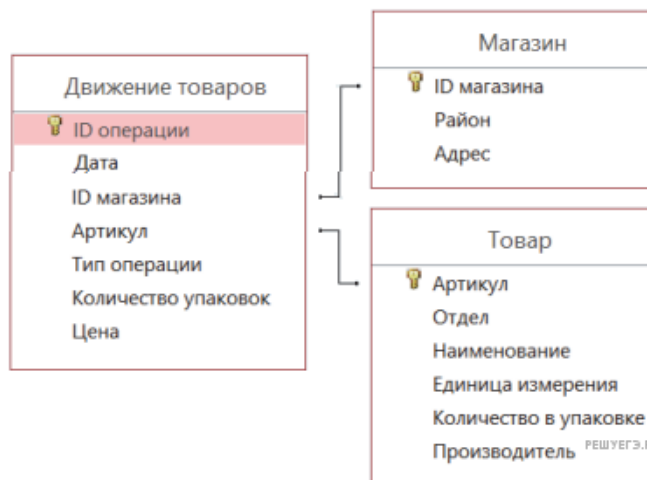
Таблица «Товар» содержит информацию об основных характеристиках каждого товара. Заголовок таблицы имеет следующий вид.

Артикул	Отдел	Наименование	Ед. изм.	Количество в упаковке	Поставщик
---------	-------	--------------	----------	-----------------------	-----------

Таблица «Магазин» содержит информацию о местонахождении магазинов. Заголовок таблицы имеет следующий вид.

ID магазина	Район	Адрес
-------------	-------	-------

На рисунке приведена схема указанной базы данных.



Используя информацию из приведённой базы данных, определите, сколько рублей потребовалось магазинам Первомайского района для закупки яиц диетических за период с 1 по 10 июня включительно.

В ответе запишите только число.

4. В файле приведён фрагмент базы данных «Продукты» о поставках товаров в магазины районов города. База данных состоит из трёх таблиц.

Задание 3

Таблица «Движение товаров» содержит записи о поставках товаров в магазины в течение первой декады июня 2021 г., а также информацию о проданных товарах. Поле *Тип операции* содержит значение *Поступление* или *Продажа*, а в соответствующее поле *Количество упаковок, шт.* занесена информация о том, сколько упаковок товара поступило в магазин или было продано в течение дня. Заголовок таблицы имеет следующий вид.

ID операции	Дата	ID магазина	Артикул	Тип операции	Количество упаковок, шт.	Цена, руб./шт.
-------------	------	-------------	---------	--------------	--------------------------	----------------

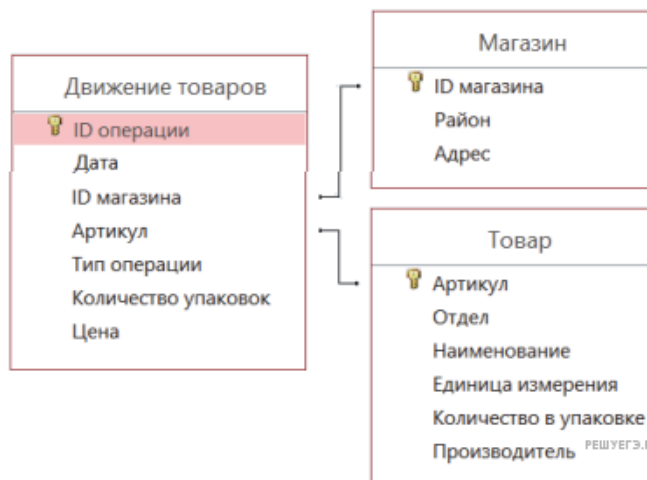
Таблица «Товар» содержит информацию об основных характеристиках каждого товара. Заголовок таблицы имеет следующий вид.

Артикул	Отдел	Наименование	Ед. изм.	Количество в упаковке	Поставщик
---------	-------	--------------	----------	-----------------------	-----------

Таблица «Магазин» содержит информацию о местонахождении магазинов. Заголовок таблицы имеет следующий вид.

ID магазина	Район	Адрес
-------------	-------	-------

На рисунке приведена схема указанной базы данных.



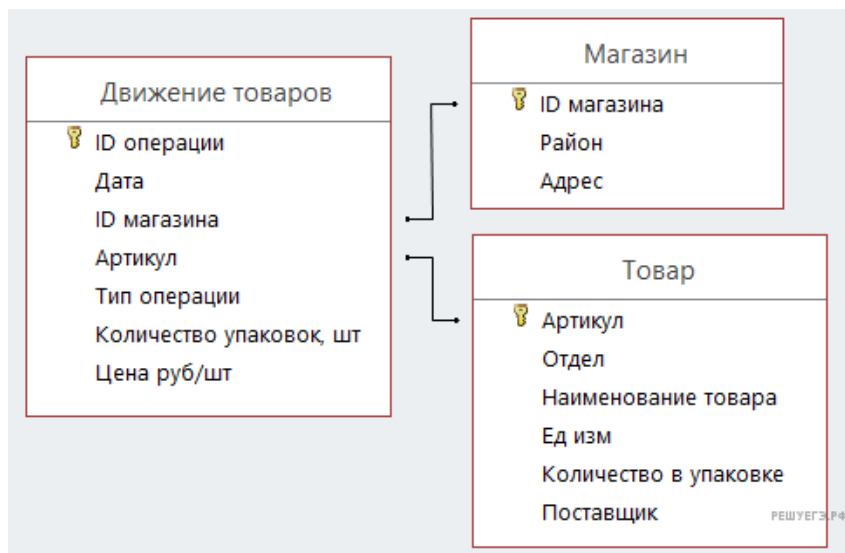
Используя информацию из приведённой базы данных, определите, сколько рублей выручили магазины Заречного района от продажи соды пищевой за период с 1 по 10 июня включительно. В ответе запишите только число.

5. В файле приведён фрагмент базы данных «Продукты», содержащей информацию о поставках товаров и их продаже. База данных состоит из трёх таблиц.

Задание 3

Таблица «Движение товаров» содержит записи о поставках товаров в магазины города в первой декаде июня 2021 г. и о продаже товаров в этот же период. Таблица «Товар» содержит данные о товарах. Таблица «Магазин» содержит адреса магазинов.

На рисунке приведена схема базы данных, содержащая все поля каждой таблицы и связи между ними.



Используя информацию из приведённой базы данных, определите общую стоимость продуктов, поставленных за указанный период с макаронной фабрики в магазины Первомайского района.

В ответе запишите целое число — найденную общую стоимость в рублях.

6. В файле приведён фрагмент базы данных «Продукты», содержащей информацию о поставках товаров и их продаже. База данных состоит из трёх таблиц.

Задание 3

Таблица «Движение товаров» содержит записи о поставках товаров в магазины города в первой декаде июня 2021 г. и о продаже товаров в этот же период. Таблица «Товар» содержит данные о товарах. Таблица «Магазин» содержит адреса магазинов.

На рисунке приведена схема базы данных, содержащая все поля каждой таблицы и связи между ними.



Используя информацию из приведённой базы данных, определите общую выручку от продажи всех видов кофе в магазинах Октябрьского района за указанный период.

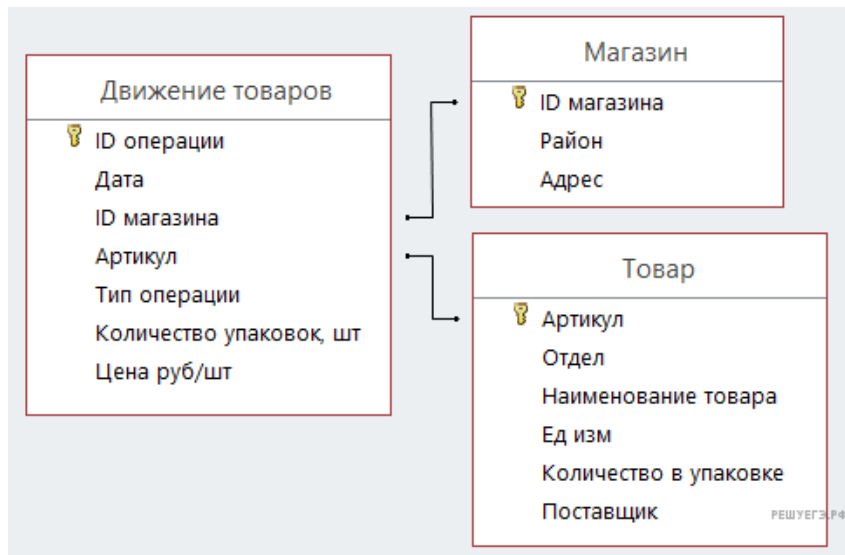
В ответе запишите целое число — найденную общую стоимость в рублях.

7. В файле приведён фрагмент базы данных «Продукты», содержащей информацию о поставках товаров и их продаже. База данных состоит из трёх таблиц.

Задание 3

Таблица «Движение товаров» содержит записи о поставках товаров в магазины города в первой декаде июня 2021 г. и о продаже товаров в этот же период. Таблица «Товар» содержит данные о товарах. Таблица «Магазин» содержит адреса магазинов.

На рисунке приведена схема базы данных, содержащая все поля каждой таблицы и связи между ними.



Используя информацию из приведённой базы данных, определите общую выручку от продажи всех видов сахара в магазинах Первомайского района за указанный период.

В ответе запишите целое число — найденную общую стоимость в рублях.

8. В файле приведён фрагмент базы данных «Продукты» о поставках товаров в магазины районов города. База данных состоит из трёх таблиц.

Задание 3

Таблица «Движение товаров» содержит записи о поставках товаров в магазины в течение первой декады июня 2021 г., а также информацию о проданных товарах. Поле *Тип операции* содержит значение *Поступление* или *Продажа*, а в соответствующее поле *Количество упаковок, шт.* занесена информация о том, сколько упаковок товара поступило в магазин или было продано в течение дня. Заголовок таблицы имеет следующий вид.

ID операции	Дата	ID магазина	Артикул	Тип операции	Количество упаковок	Цена
-------------	------	-------------	---------	--------------	---------------------	------

Таблица «Товар» содержит информацию об основных характеристиках каждого товара. Заголовок таблицы имеет следующий вид.

Артикул	Отдел	Наименование	Ед. изм.	Количество в упаковке	Поставщик
---------	-------	--------------	----------	-----------------------	-----------

Таблица «Магазин» содержит информацию о местонахождении магазинов. Заголовок таблицы имеет следующий вид.

ID магазина	Район	Адрес
-------------	-------	-------

На рисунке приведена схема указанной базы данных.



Используя информацию из приведённой базы данных, определите, на сколько увеличилось количество упаковок соды пищевой, имеющихся в наличии в магазинах Октябрьского района, за период с 1 по 8 июня включительно.

В ответе запишите только число.

9. В файле приведён фрагмент базы данных «Продукты», содержащей информацию о поставках товаров и их продаже. База данных состоит из трёх таблиц.

Задание 3

Таблица «Движение товаров» содержит записи о поставках товаров в магазины города в первой декаде июня 2021 г. и о продаже товаров в этот же период. Таблица «Товар» содержит данные о товарах. Таблица «Магазин» содержит адреса магазинов.

На рисунке приведена схема базы данных, содержащая все поля каждой таблицы и связи между ними.



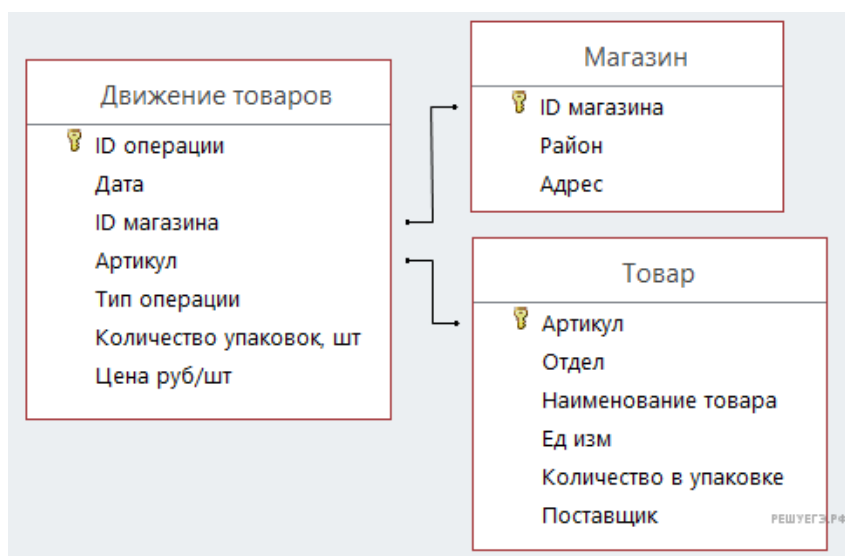
Используя информацию из приведённой базы данных, определите, сколько килограммов сахара всех видов поступило за указанный период в магазины Заречного района.

10. В файле приведён фрагмент базы данных «Продукты», содержащей информацию о поставках товаров и их продаже. База данных состоит из трёх таблиц.

Задание 3

Таблица «Движение товаров» содержит записи о поставках товаров в магазины города в первой декаде июня 2021 г. и о продаже товаров в этот же период. Таблица «Товар» содержит данные о товарах. Таблица «Магазин» содержит адреса магазинов.

На рисунке приведена схема базы данных, содержащая все поля каждой таблицы и связи между ними.



Используя информацию из приведённой базы данных, определите, сколько килограммов кофе всех видов поступило за указанный период в магазины Октябрьского района.

11. В файле приведён фрагмент базы данных «Продукты» о поставках товаров в магазины районов города. База данных состоит из трёх таблиц.

Задание 3

Таблица «Движение товаров» содержит записи о поставках товаров в магазины в течение первой декады июня 2021 г., а также информацию о проданных товарах. Поле *Тип операции* содержит значение *Поступление* или *Продажа*, а в соответствующее поле *Количество упаковок, шт.* занесена информация о том, сколько упаковок товара поступило в магазин или было продано в течение дня. Заголовок таблицы имеет следующий вид.

ID операции	Дата	ID магазина	Артикул	Тип операции	Количество упаковок, шт.	Цена, руб./шт.
-------------	------	-------------	---------	--------------	--------------------------	----------------

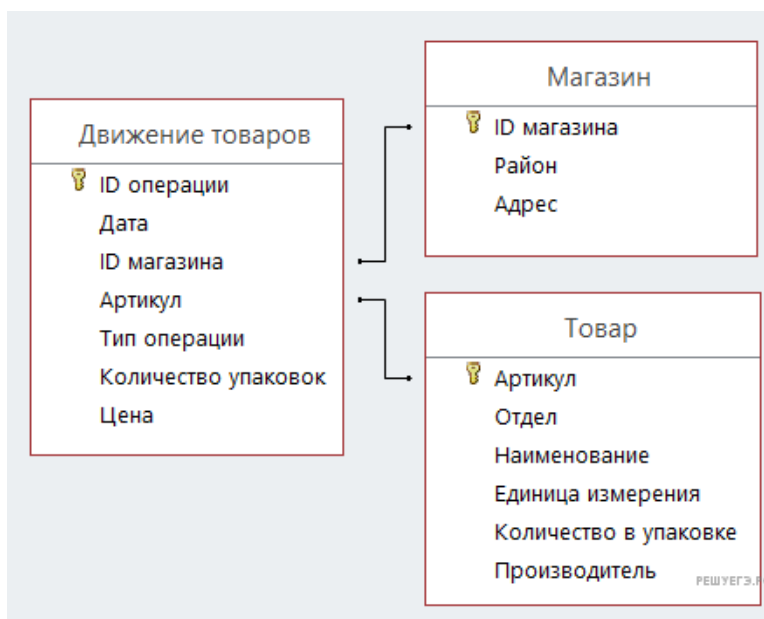
Таблица «Товар» содержит информацию об основных характеристиках каждого товара. Заголовок таблицы имеет следующий вид.

Артикул	Отдел	Наименование	Ед. изм.	Количество в упаковке	Поставщик
---------	-------	--------------	----------	-----------------------	-----------

Таблица «Магазин» содержит информацию о местонахождении магазинов. Заголовок таблицы имеет следующий вид.

ID магазина	Район	Адрес
-------------	-------	-------

На рисунке приведена схема указанной базы данных.



Используя информацию из приведённой базы данных, определите общий вес (в кг) крахмала картофельного, поступившего в магазины Заречного района за период с 1 по 8 июня включительно.

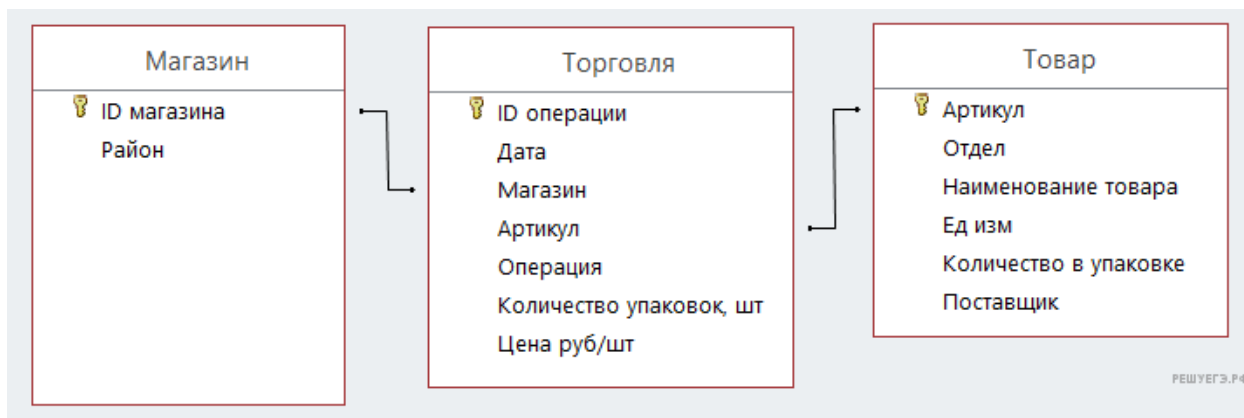
В ответе запишите только число.

12. В файле приведён фрагмент базы данных «Продукты», содержащей информацию о поставках товаров и их продаже. База данных состоит из трёх таблиц.

Задание 3

Таблица «Торговля» содержит записи о поставках и продажах товаров в магазинах города в июне 2021 г. Таблица «Товар» содержит данные о товарах. Таблица «Магазин» содержит данные о магазинах.

На рисунке приведена схема базы данных, содержащая все поля каждой таблицы и связи между ними.



Используя информацию из приведённой базы данных, определите общую сумму выручки, полученную от продаж продуктов мясной гастрономии в магазинах Центрального района с 7 по 13 июня.

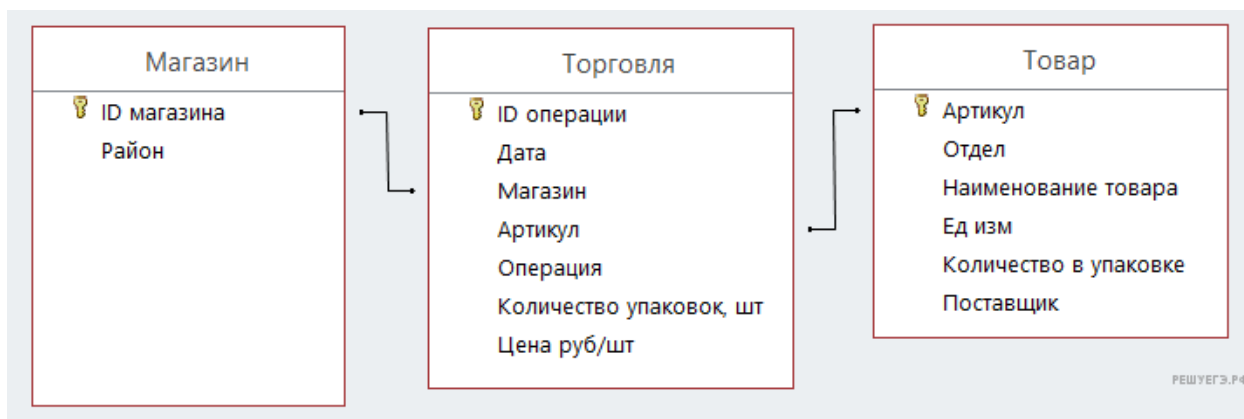
В ответе запишите число — найденную сумму выручки в рублях.

13. В файле приведён фрагмент базы данных «Продукты», содержащей информацию о поставках товаров и их продаже. База данных состоит из трёх таблиц.

Задание 3

Таблица «Торговля» содержит записи о поставках и продажах товаров в магазинах города в июне 2021 г. Таблица «Товар» содержит данные о товарах. Таблица «Магазин» содержит данные о магазинах.

На рисунке приведена схема базы данных, содержащая все поля каждой таблицы и связи между ними.



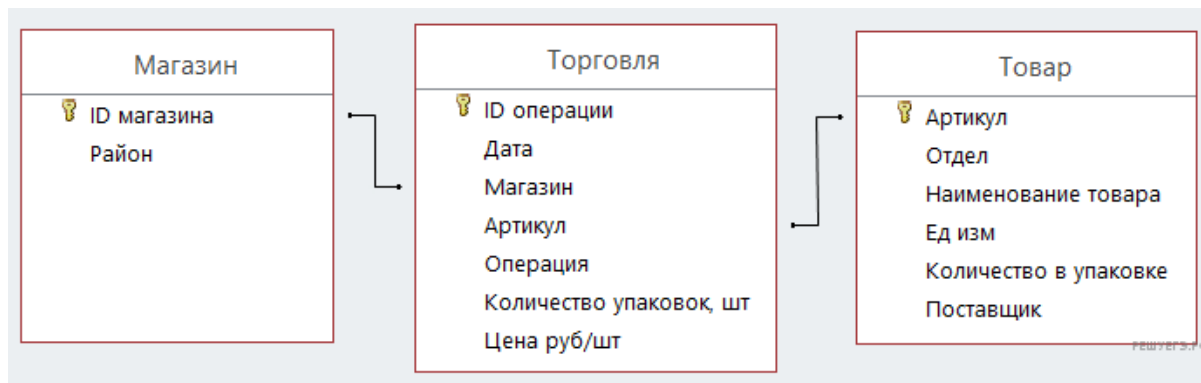
Используя информацию из приведённой базы данных, определите общую сумму выручки, полученную от продаж продуктов отдела «Бакалея» в магазинах Первомайского района с 14 по 20 июня.

В ответе запишите число — найденную сумму выручки в рублях.

14. В файле приведён фрагмент базы данных «Продукты», содержащей информацию о поставках товаров и их продаже. База данных состоит из трёх таблиц.

Задание 3

Таблица «Торговля» содержит записи о поставках и продажах товаров в магазинах города в июне 2021 г. Таблица «Товар» содержит данные о товарах. Таблица «Магазин» содержит данные о магазинах. На рисунке приведена схема базы данных, содержащая все поля каждой таблицы и связи между ними.



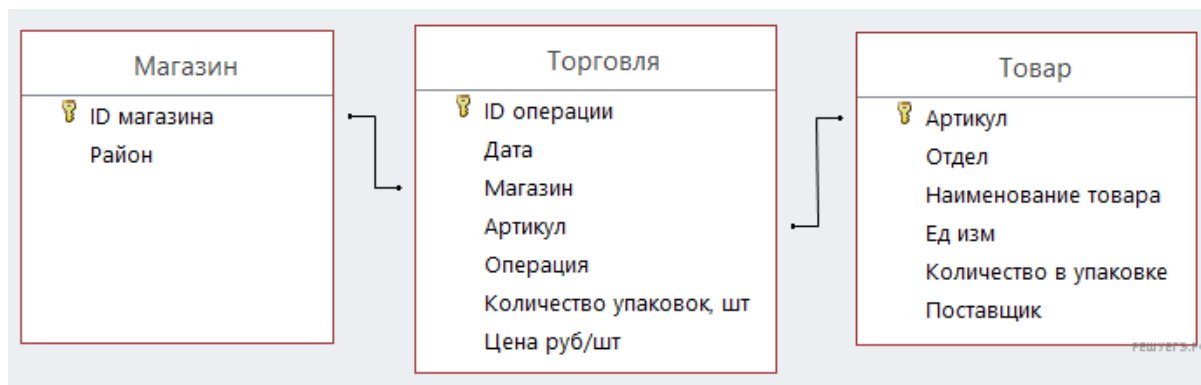
Используя информацию из приведённой базы данных, определите магазин, получивший наибольшую общую сумму выручки от продаж товаров отдела «Молоко» с 10 по 12 июня.

В ответе запишите число — найденную наибольшую сумму выручки в рублях.

15. В файле приведён фрагмент базы данных «Продукты», содержащей информацию о поставках товаров и их продаже. База данных состоит из трёх таблиц.

Задание 3

Таблица «Торговля» содержит записи о поставках и продажах товаров в магазинах города в июне 2021 г. Таблица «Товар» содержит данные о товарах. Таблица «Магазин» содержит данные о магазинах. На рисунке приведена схема базы данных, содержащая все поля каждой таблицы и связи между ними.



Используя информацию из приведённой базы данных, определите магазин, получивший наибольшую общую сумму выручки от продаж товаров отдела «Мясная гастрономия» с 7 по 9 июня.

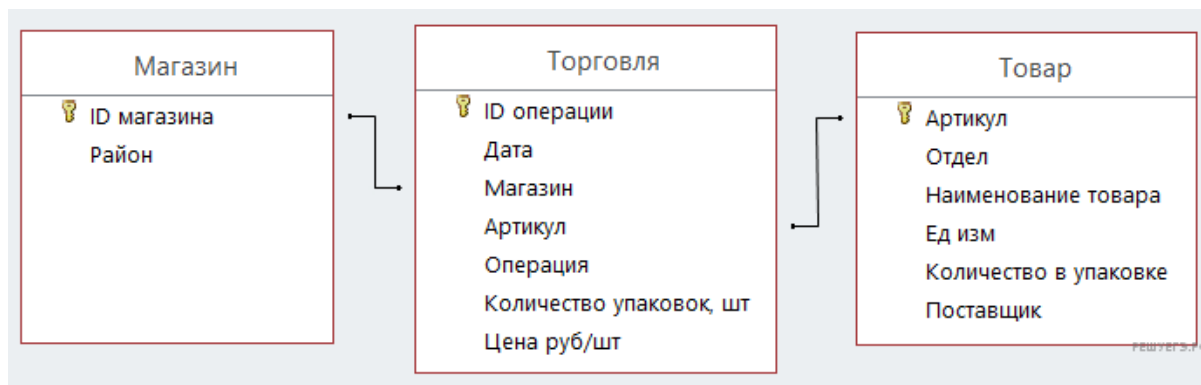
В ответе запишите число — найденную наибольшую сумму выручки в рублях.

16. В файле приведён фрагмент базы данных «Продукты», содержащей информацию о поставках товаров и их продаже. База данных состоит из трёх таблиц.

Задание 3

Таблица «Торговля» содержит записи о поставках и продажах товаров в магазинах города в июне 2021 г. Таблица «Товар» содержит данные о товарах. Таблица «Магазин» содержит данные о магазинах.

На рисунке приведена схема базы данных, содержащая все поля каждой таблицы и связи между ними.



Используя информацию из приведённой базы данных, определите, магазины какого района в период с 4 по 8 июня получили наибольшую выручку от продажи товаров отдела «Молоко».

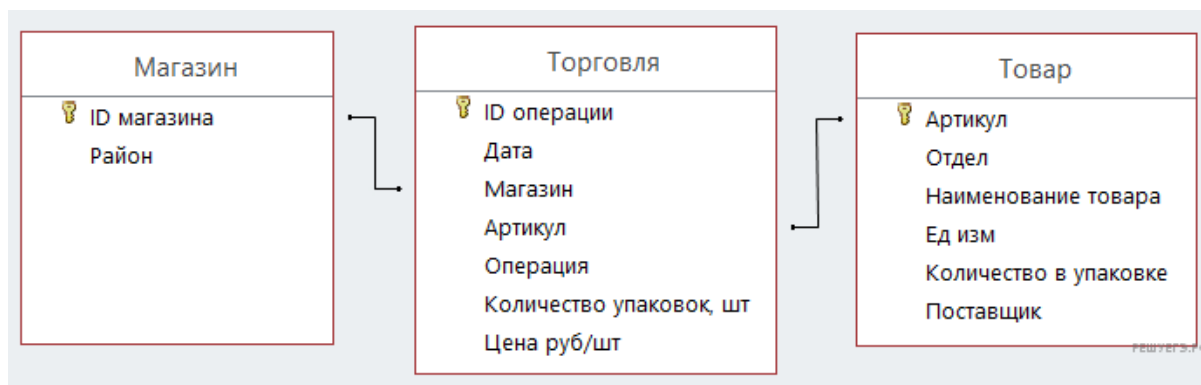
В ответе запишите число — найденное значение наибольшей выручки в рублях.

17. В файле приведён фрагмент базы данных «Продукты», содержащей информацию о поставках товаров и их продаже. База данных состоит из трёх таблиц.

Задание 3

Таблица «Торговля» содержит записи о поставках и продажах товаров в магазинах города в июне 2021 г. Таблица «Товар» содержит данные о товарах. Таблица «Магазин» содержит данные о магазинах.

На рисунке приведена схема базы данных, содержащая все поля каждой таблицы и связи между ними.



Используя информацию из приведённой базы данных, определите, магазины какого района в период с 14 по 18 июня получили наибольшую выручку от продажи товаров отдела «Бакалея».

В ответе запишите число — найденное значение наибольшей выручки в рублях.

18. В файле приведён фрагмент базы данных «Товары» о поставках товаров в магазины районов города. База данных состоит из трёх таблиц. Таблица «Движение товаров» содержит записи о поставках товаров в магазины в течение первого полугодия 2021 г., а также информацию о проданных товарах.

Задание 3

Поле Тип операции содержит значение Поступление или Продажа, а в соответствующее поле Количество упаковок, шт. занесена информация о том, сколько упаковок товара поступило в магазин или было продано в течение дня. Заголовок таблицы имеет следующий вид.

ID операции	Дата	ID магазина	Артикул	Тип операции	Количество упаковок	Цена
-------------	------	-------------	---------	--------------	---------------------	------

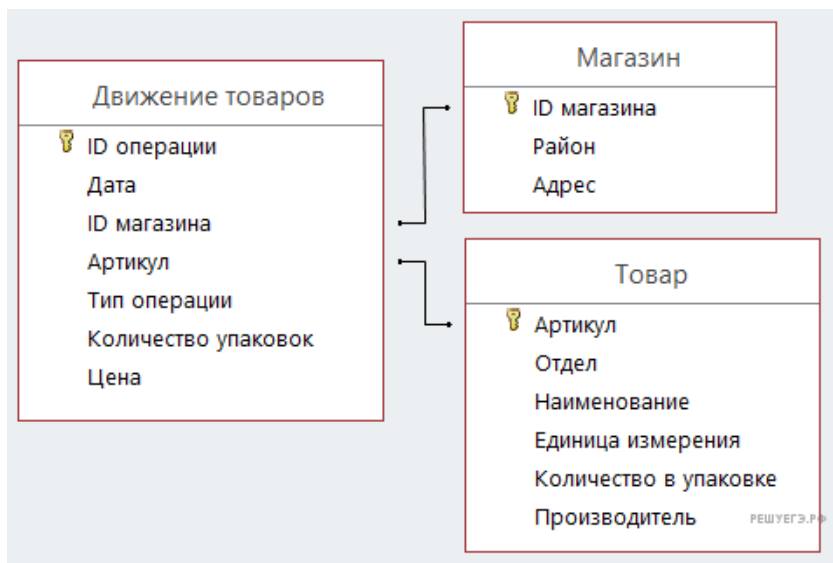
Таблица «Товар» содержит информацию об основных характеристиках каждого товара. Заголовок таблицы имеет следующий вид.

Артикул	Отдел	Наименование	Единица измерения	Количество в упаковке	Производитель
---------	-------	--------------	-------------------	-----------------------	---------------

Таблица «Магазин» содержит информацию о местонахождении магазинов. Заголовок таблицы имеет следующий вид.

ID магазина	Район	Адрес
-------------	-------	-------

На рисунке приведена схема указанной базы данных.



Используя информацию из приведённой базы данных, определите, на сколько увеличилось количество упаковок пряников тульских с начинкой, имеющих в наличии в магазинах Заречного района, за период с 3 по 14 августа включительно.

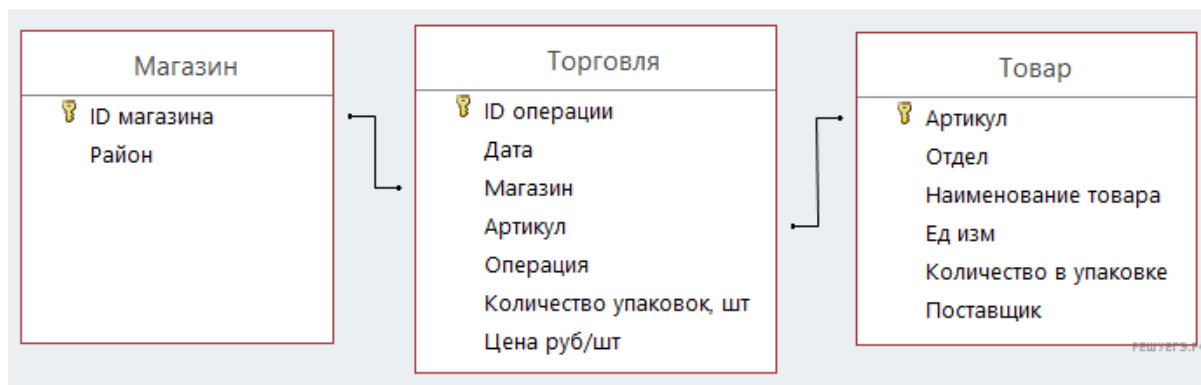
В ответе запишите только число.

19. В файле приведён фрагмент базы данных «Продукты», содержащей информацию о поставках товаров и их продаже. База данных состоит из трёх таблиц.

Задание 3

Таблица «Торговля» содержит записи о поставках и продажах товаров в магазинах города в июне 2021 г. Таблица «Товар» содержит данные о товарах. Таблица «Магазин» содержит данные о магазинах.

На рисунке приведена схема базы данных, содержащая все поля каждой таблицы и связи между ними.



Используя информацию из приведённой базы данных, определите, магазины какого района в период с 25 по 27 июня получили наибольшее количество товаров отдела «Бакалея».

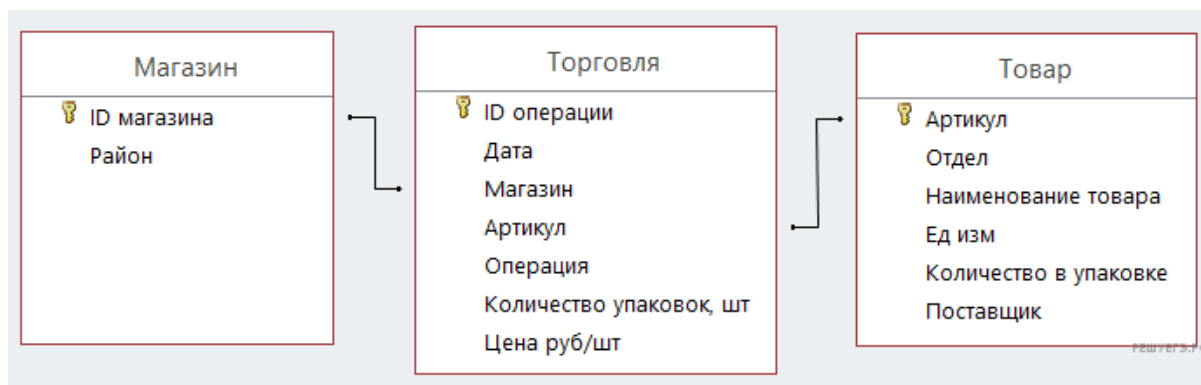
В ответе запишите число — найденное наибольшее количество в килограммах.

20. В файле приведён фрагмент базы данных «Продукты», содержащей информацию о поставках товаров и их продаже. База данных состоит из трёх таблиц.

Задание 3

Таблица «Торговля» содержит записи о поставках и продажах товаров в магазинах города в июне 2021 г. Таблица «Товар» содержит данные о товарах. Таблица «Магазин» содержит данные о магазинах.

На рисунке приведена схема базы данных, содержащая все поля каждой таблицы и связи между ними.



Используя информацию из приведённой базы данных, определите, магазины какого района в период с 28 по 30 июня получили наименьшее количество товаров отдела «Мясная гастрономия».

В ответе запишите число — найденное наименьшее количество в килограммах.

21. В файле приведён фрагмент базы данных «Мебель», принадлежащей группе компаний по производству мебели. База данных состоит из трёх связанных прямоугольных таблиц.

Задание 3

Таблица «Материал» содержит записи о видах материала, используемых при изготовлении мебели. Заголовок таблицы имеет вид:

ID материала	Материал	Город	Производство
--------------	----------	-------	--------------

Таблица «Продукция» содержит информацию о номенклатуре выпускаемой мебели. Заголовок таблицы имеет вид:

ID товара	Наименование товара	Номенклатура	Номер склада	Эксплуатационное назначение
-----------	---------------------	--------------	--------------	-----------------------------

Таблица «Готовый товар» — информацию об уже мебели. Заголовок таблицы имеет вид:

Артикул	ID товара	ID материала	Количество на складе, шт.	Отпускная цена, руб.
---------	-----------	--------------	---------------------------	----------------------

На рисунке приведена схема указанной базы данных.



Используя информацию из приведённой базы данных, определите общую стоимость (в рублях) всех диванов выкатных, произведённых на предприятиях Москвы из дерева.

В ответе запишите только число.

22. В файле приведён фрагмент единой расчётной базы данных фирмы «Мастер» о начислениях за товары, продаваемых в различных магазинах жителям города. База данных состоит из трёх связанных прямоугольных таблиц.

Задание 3

Таблица «Начисления» содержит записи о начислениях. Заголовок таблицы имеет вид:

ID операции	Дата	Лицевые счёта	ID отдела	Операции	Сумма, руб.
-------------	------	---------------	-----------	----------	-------------

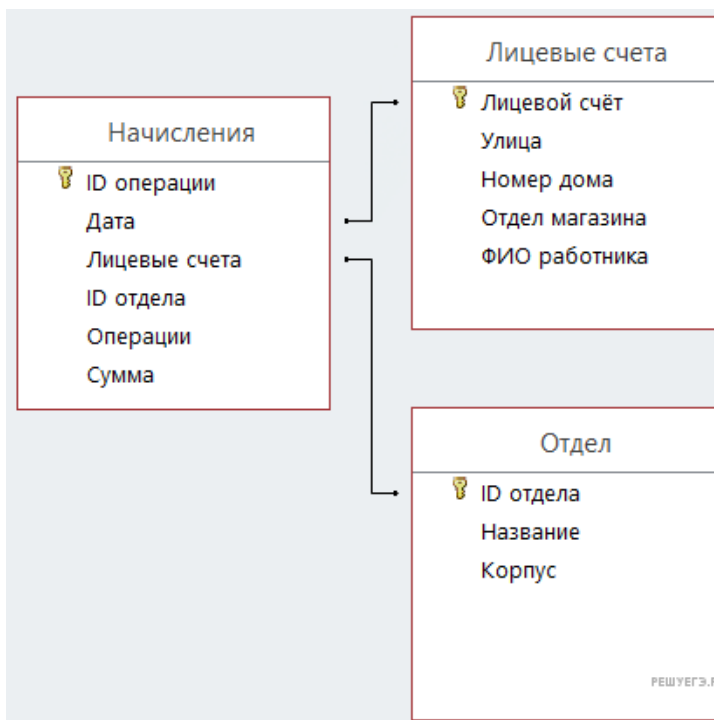
Таблица «Лицевые счета» содержит информацию о магазинах, в которых реализуются товары фирмы. Заголовок таблицы имеет вид:

Лицевой счет	Улица	Номер дома	Отдел магазина	ФИО работника
--------------	-------	------------	----------------	---------------

Таблица «Отдел» содержит информацию об отделах компании. Заголовок таблицы имеет вид:

ID отдела	Название	Корпус
-----------	----------	--------

На рисунке приведена схема указанной базы данных.



Используя информацию из приведённой базы данных, определите суммарные доходы (в рублях) Производственного цеха в отделе магазина «Сантехника» на улице Семеоновская, дом 27 за 2021 год. В ответе запишите только число.

23. В файле приведён фрагмент базы данных «Машины», принадлежащей союзу автодилеров, предлагающему покупателям автомобили. База данных состоит из трёх связанных прямоугольных таблиц.

Задание 3

Таблица «Наличие» содержит записи о поступивших дилеру и проданных покупателям машинах. Поле *Тип операции* содержит значение «Поступило дилеру» или «Отдано покупателю». Заголовок таблицы имеет вид:

ID операции	Дата	ID машины	ID дилера	Количество	Тип операции
-------------	------	-----------	-----------	------------	--------------

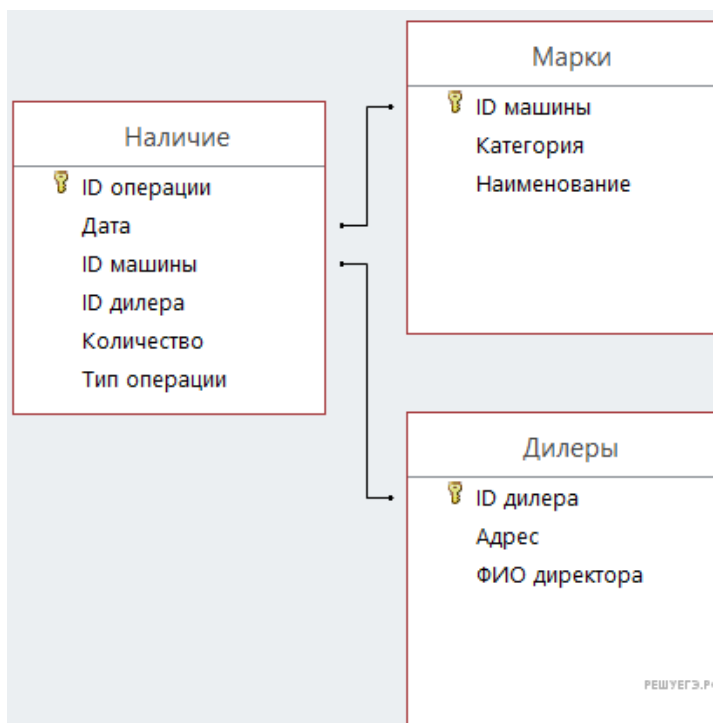
Таблица «Марки» содержит информацию об автомобилях, продаваемых союзом автодилеров. Заголовок таблицы имеет вид:

ID машины	Категория	Наименование
-----------	-----------	--------------

Таблица «Дилеры» содержит информацию о местах расположения дилерских центров. Заголовок таблицы имеет вид:

ID дилера	Адрес	ФИО директора
-----------	-------	---------------

На рисунке приведена схема указанной базы данных.



Используя информацию из приведённой базы данных, определите прирост количества отечественных автомобилей, завезенных в дилерские центры Москвы, имеющих в наличии у дилеров на 01.01.2022 по сравнению с 01.01.2021.

В ответе запишите только число.

24. В файле приведён фрагмент базы данных «Машины», принадлежащей союзу автодилеров, предлагающему покупателям автомобили. База данных состоит из трёх связанных прямоугольных таблиц.

Задание 3

Таблица «Наличие» содержит записи о поступивших дилеру и проданных покупателям машинах. Поле *Тип операции* содержит значение «Поступило дилеру» или «Отдано покупателю». Заголовок таблицы имеет вид:

ID операции	Дата	ID машины	ID дилера	Количество	Тип операции
-------------	------	-----------	-----------	------------	--------------

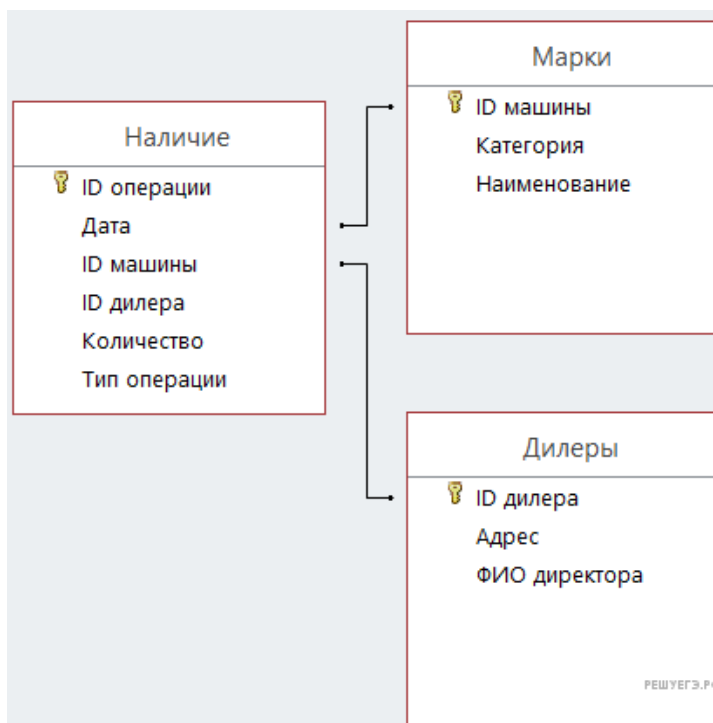
Таблица «Марки» содержит информацию об автомобилях, продаваемых союзом автодилеров. Заголовок таблицы имеет вид:

ID машины	Категория	Наименование
-----------	-----------	--------------

Таблица «Дилеры» содержит информацию о местах расположения дилерских центров. Заголовок таблицы имеет вид:

ID дилера	Адрес	ФИО директора
-----------	-------	---------------

На рисунке приведена схема указанной базы данных.



Используя информацию из приведённой базы данных, определите прирост количества отечественных автомобилей, завезенных в дилерские центры Ярославля, имеющих в наличии у дилеров на конец дня 01.06.2022 по сравнению с 01.06.2021.

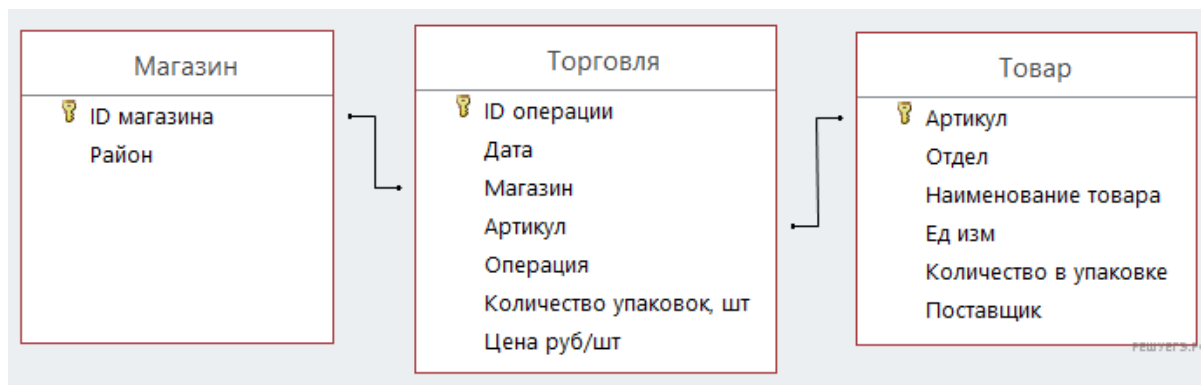
В ответе запишите только число.

25. В файле приведён фрагмент базы данных «Продукты», содержащей информацию о поставках товаров и их продаже. База данных состоит из трёх таблиц.

Задание 3

Таблица «Торговля» содержит записи о поставках и продажах товаров в магазинах города в июне 2021 г. Таблица «Товар» содержит данные о товарах. Таблица «Магазин» содержит данные о магазинах.

На рисунке приведена схема базы данных, содержащая все поля каждой таблицы и связи между ними.



Используя информацию из приведённой базы данных, определите общую стоимость товаров, полученных магазинами Центрального района с 11 по 15 июня от молокозавода № 1.

В ответе напишите только число — найденную стоимость в рублях.

26. В файле приведён фрагмент базы данных «Бытовая химия» о поставках товара в магазины районов города. База данных состоит из трёх таблиц.

Задание 3

Таблица «Движение товаров» содержит записи о поставках товаров в магазины в течение первой половины августа 2022 г., а также информацию о проданных товарах. Поле *Тип операции* содержит значение *Поступление* или *Продажа*, а в соответствующее поле *Количество упаковок, шт.* внесена информация о том, сколько упаковок товара поступило в магазин или было продано в течение дня. Заголовок таблицы имеет следующий вид.

ID операции	Дата	ID магазина	Артикул	Количество упаковок, шт.	Тип операции
-------------	------	-------------	---------	--------------------------	--------------

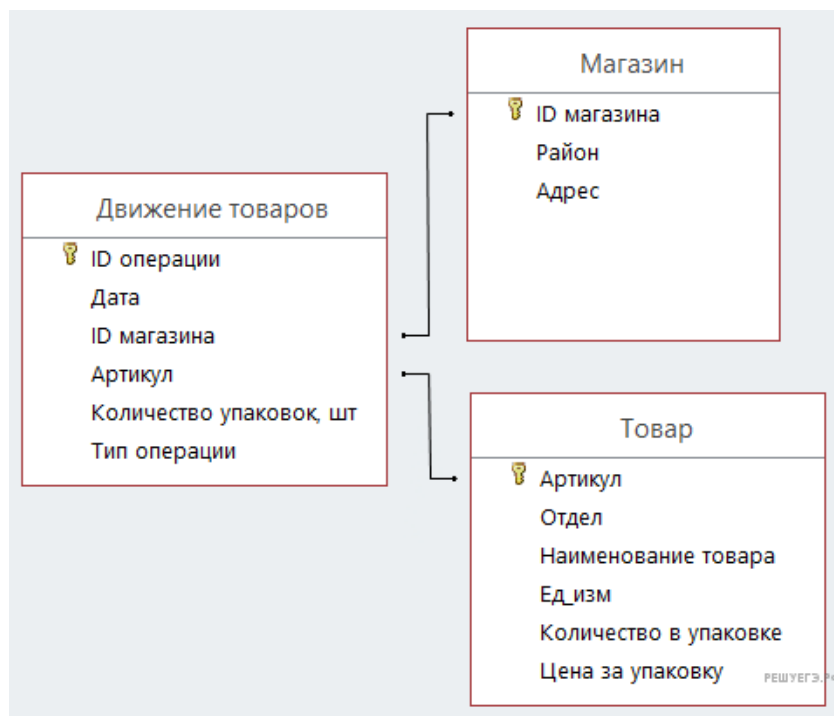
Таблица «Товар» содержит информацию об основных характеристиках каждого товара. Заголовок таблицы имеет следующий вид.

Артикул	Отдел	Наименование товара	Ед. изм.	Количество в упаковке	Цена за упаковку
---------	-------	---------------------	----------	-----------------------	------------------

Таблица «Магазин» содержит информацию о местонахождении магазинов. Заголовок таблицы имеет следующий вид.

ID магазина	Район	Адрес
-------------	-------	-------

На рисунке приведена схема указанной базы данных.



Используя информацию из приведённой базы данных, определите, на сколько увеличилось количество упаковок антисептика для рук, имеющихся в наличии в магазинах Промышленного района, за период с 1 по 15 июня включительно. В ответе запишите только число.

27. В файле приведён фрагмент базы данных «Кондитерские изделия» о поставках конфет и печенья в магазины районов города. База данных состоит из трёх таблиц.

Задание 3

Таблица «Движение товаров» содержит записи о поставках товаров в магазины в течение первой половины августа 2022 г., а также информацию о проданных товарах. Поле *Тип операции* содержит значение *Поступление* или *Продажа*, а в соответствующее поле *Количество упаковок, шт.* внесена информация о том, сколько упаковок товара поступило в магазин или было продано в течение дня. Заголовок таблицы имеет следующий вид.

ID операции	Дата	ID магазина	Артикул	Количество упаковок, шт.	Тип операции
-------------	------	-------------	---------	--------------------------	--------------

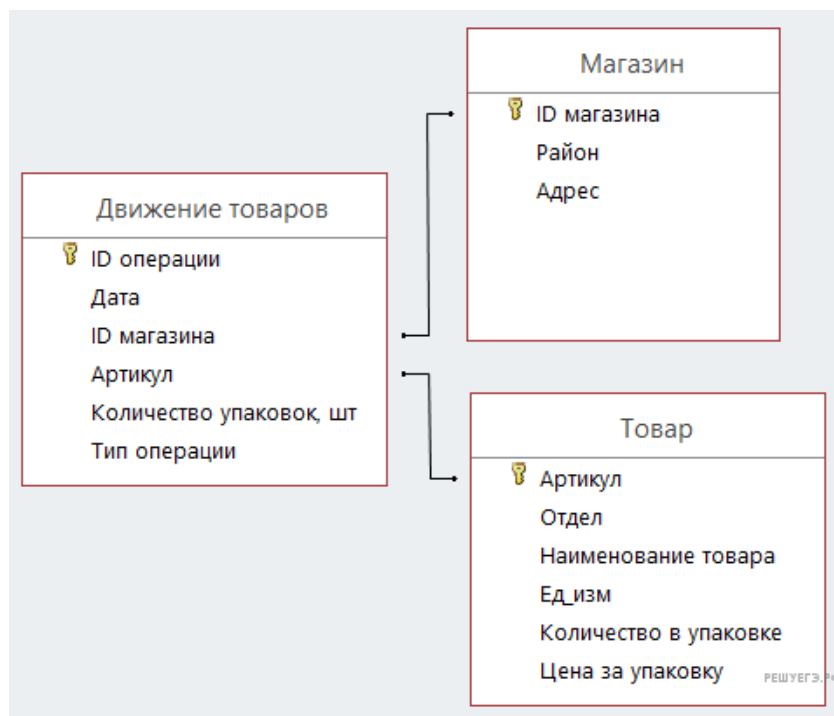
Таблица «Товар» содержит информацию об основных характеристиках каждого товара. Заголовок таблицы имеет следующий вид.

Артикул	Отдел	Наименование товара	Ед. изм.	Количество в упаковке	Цена за упаковку
---------	-------	---------------------	----------	-----------------------	------------------

Таблица «Магазин» содержит информацию о местонахождении магазинов. Заголовок таблицы имеет следующий вид.

ID магазина	Район	Адрес
-------------	-------	-------

На рисунке приведена схема указанной базы данных.



Используя информацию из приведённой базы данных, определите, на сколько увеличилось количество упаковок печенья «Юбилейное», имеющих в наличии в магазинах Центрального района, за период с 1 по 15 июня включительно. В ответе запишите только число.

28. В файле приведён фрагмент базы данных «Продукты» о поставках товаров в магазины районов города. База данных состоит из трёх таблиц.

Задание 3

Таблица «Движение товаров» содержит записи о поставках товаров в магазины в течение первой декады июня 2021 г., а также информацию о проданных товарах. Поле *Тип операции* содержит значение *Поступление* или *Продажа*, а в соответствующее поле *Количество упаковок, шт.* занесена информация о том, сколько упаковок товара поступило в магазин или было продано в течение дня. Заголовок таблицы имеет следующий вид.

ID операции	Дата	ID магазина	Артикул	Количество упаковок, шт.	Тип операции
-------------	------	-------------	---------	--------------------------	--------------

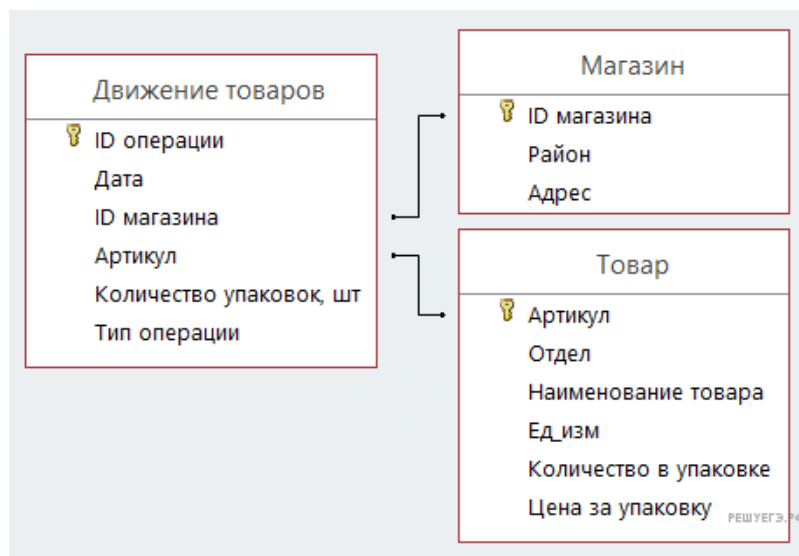
Таблица «Товар» содержит информацию об основных характеристиках каждого товара. Заголовок таблицы имеет следующий вид.

Артикул	Отдел	Наименование	Ед. изм.	Количество в упаковке	Цена за упаковку
---------	-------	--------------	----------	-----------------------	------------------

Таблица «Магазин» содержит информацию о местонахождении магазинов. Заголовок таблицы имеет следующий вид.

ID магазина	Район	Адрес
-------------	-------	-------

На рисунке приведена схема указанной базы данных.

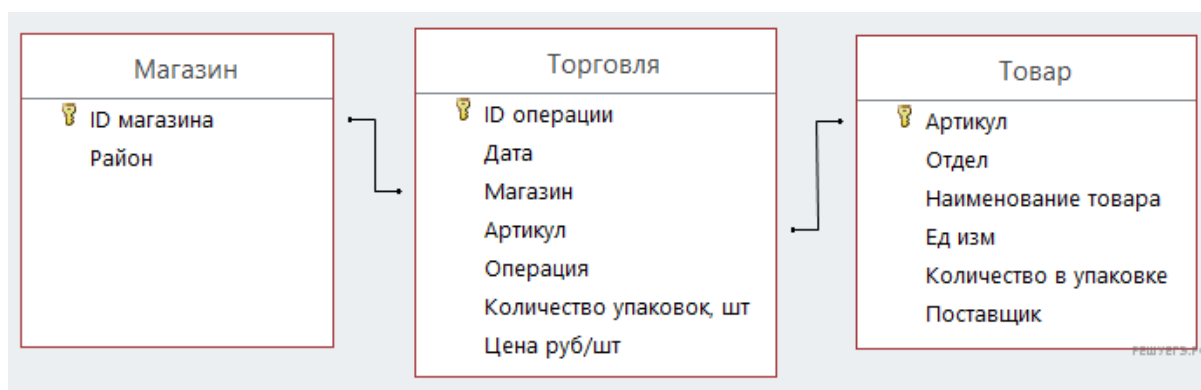


Используя информацию из приведённой базы данных, определите общую массу (в кг) всех видов зефира, полученных магазинами на улице Metallургов за период с 4 по 13 июня включительно. В ответе запишите только число.

29. В файле приведён фрагмент базы данных «Продукты», содержащей информацию о поставках товаров и их продаже. База данных состоит из трёх таблиц.

Задание 3

Таблица «Торговля» содержит записи о поставках и продажах товаров в магазинах города в июне 2021 г. Таблица «Товар» содержит данные о товарах. Таблица «Магазин» содержит данные о магазинах. На рисунке приведена схема базы данных, содержащая все поля каждой таблицы и связи между ними.



Используя информацию из приведённой базы данных, определите общую прибыль, полученную за месяц магазинами Центрального района от торговли всеми видами сахара.

Под прибылью в этой задаче понимается разница между стоимостью продажи и стоимостью поставки товаров.

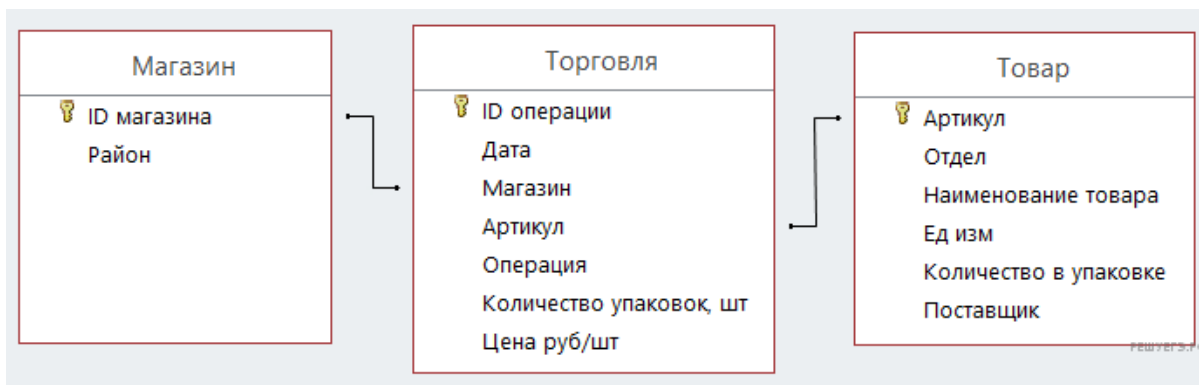
В ответе запишите число — найденную прибыль в рублях.

30. В файле приведён фрагмент базы данных «Продукты», содержащей информацию о поставках товаров и их продаже. База данных состоит из трёх таблиц.

Задание 3

Таблица «Торговля» содержит записи о поставках и продажах товаров в магазинах города в июне 2021 г. Таблица «Товар» содержит данные о товарах. Таблица «Магазин» содержит данные о магазинах.

На рисунке приведена схема базы данных, содержащая все поля каждой таблицы и связи между ними.



Используя информацию из приведённой базы данных, определите общую прибыль, полученную за месяц магазинами Заречного района от торговли всеми видами кофе.

Под прибылью в этой задаче понимается разница между стоимостью продажи и стоимостью поставки товаров.

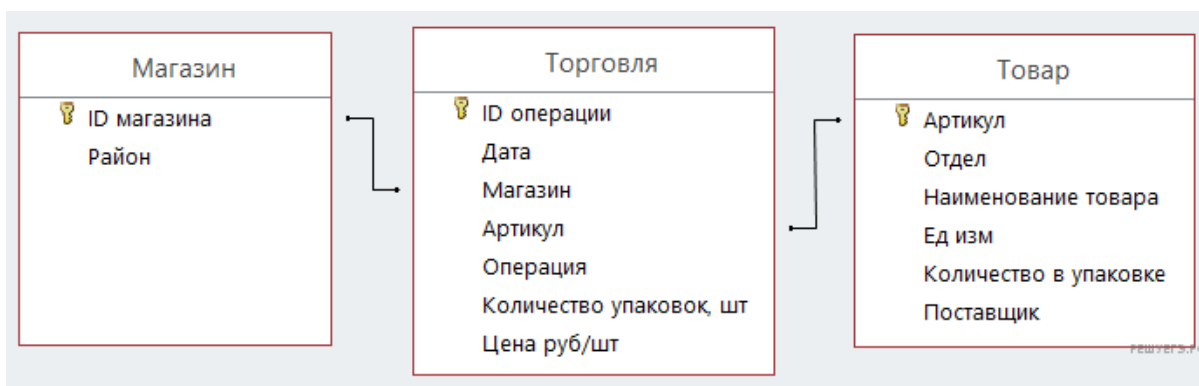
В ответе запишите число — найденную прибыль в рублях.

31. В файле приведён фрагмент базы данных «Продукты», содержащей информацию о поставках товаров и их продаже. База данных состоит из трёх таблиц.

Таблица «Торговля» содержит записи о поставках и продажах товаров в магазинах города в июне 2021г. Таблица «Товар» содержит данные о товарах. Таблица «Магазин» содержит данные о магазинах.

На рисунке приведена схема базы данных, содержащая все поля каждой таблицы и связи между ними.

Задание 3

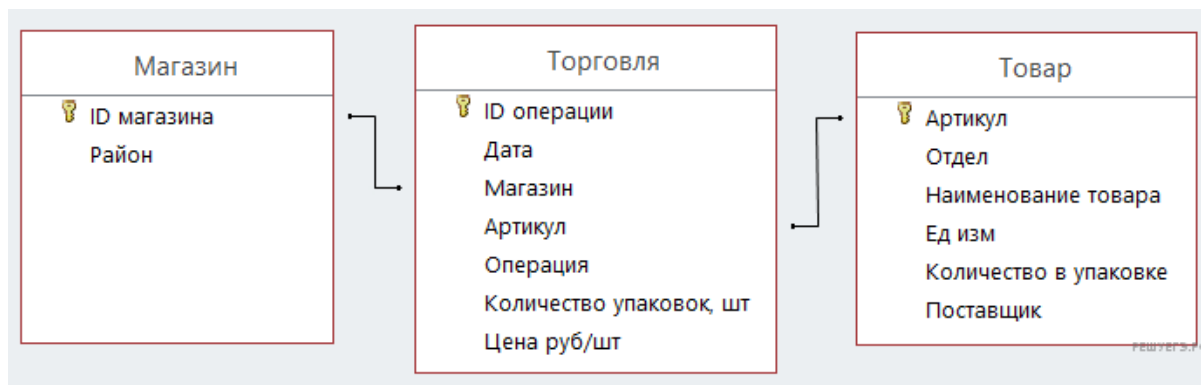


Используя информацию из приведённой базы данных, определите магазин, продавший за месяц наибольшее количество лапши гречневой. В ответе запишите ID магазина — так, как он указан в базе.

32. В файле приведён фрагмент базы данных «Продукты», содержащей информацию о поставках товаров и их продаже. База данных состоит из трёх таблиц.

Таблица «Торговля» содержит записи о поставках и продажах товаров в магазинах города в июне 2021г. Таблица «Товар» содержит данные о товарах. Таблица «Магазин» содержит данные о магазинах. На рисунке приведена схема базы данных, содержащая все поля каждой таблицы и связи между ними.

Задание 3



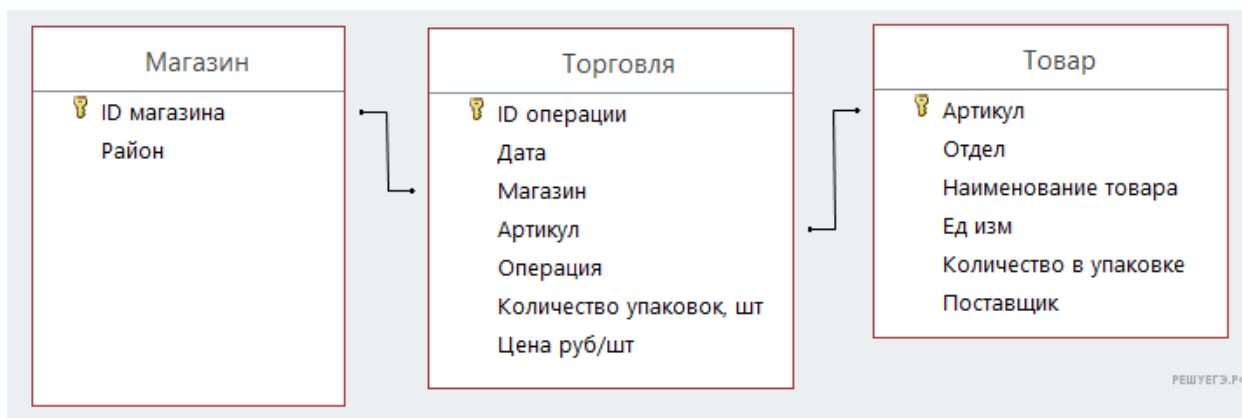
Используя информацию из приведённой базы данных, определите количество магазинов, в которых выручка от продажи кофе в зёрнах за месяц превысила 200 тысяч рублей.

33. В файле приведён фрагмент базы данных «Продукты», содержащей информацию о поставках товаров и их продаже. База данных состоит из трёх таблиц.

Таблица «Торговля» содержит записи о поставках и продажах товаров в магазинах города в июне 2021 г. Таблица «Товар» содержит данные о товарах. Таблица «Магазин» содержит данные о магазинах.

На рисунке приведена схема базы данных, содержащая все поля каждой таблицы и связи между ними.

Задание 3



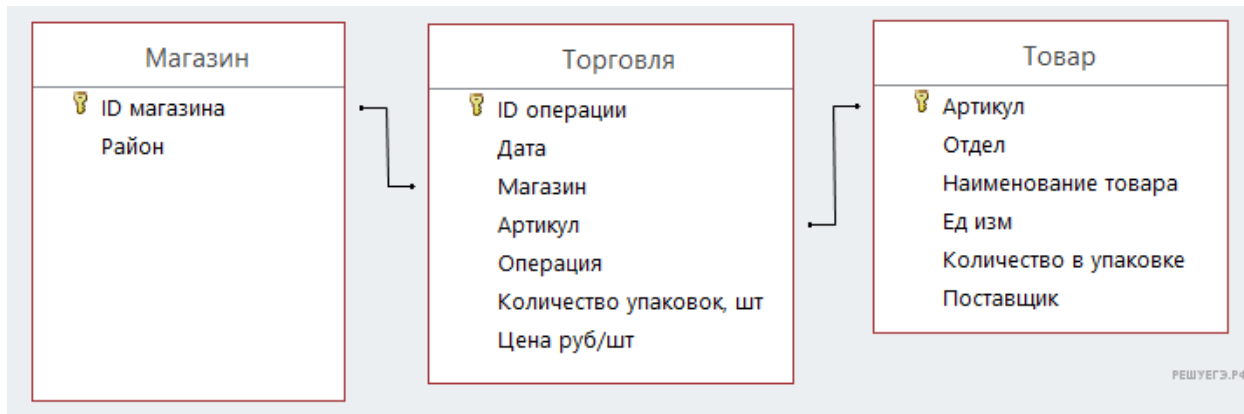
Используя информацию из приведённой базы данных, определите общее количество (в килограммах) всех видов бекона, полученных магазинами Октябрьского района с 15 по 21 июня.

В ответе запишите число — найденное количество в килограммах.

34. В файле приведён фрагмент базы данных «Продукты», содержащей информацию о поставках товаров и их продаже. База данных состоит из трёх таблиц.

Таблица «Торговля» содержит записи о поставках и продажах товаров в магазинах города в июне 2021 г. Таблица «Товар» содержит данные о товарах. Таблица «Магазин» содержит данные о магазинах. На рисунке приведена схема базы данных, содержащая все поля каждой таблицы и связи между ними.

Задание 3



Используя информацию из приведённой базы данных, определите общее количество (в килограммах) всех видов паштета, полученных магазинами Первомайского района с 22 по 28 июня.

В ответе запишите число — найденное количество в килограммах.

35. В файле приведён фрагмент базы данных «Кондитерские изделия» о поставках конфет и печенья в магазины районов города. База данных состоит из трёх таблиц.

Задание 3

Таблица «Движение товаров» содержит записи о поставках товаров в магазины в течение первой половины июня 2023 г., а также информацию о проданных товарах. Поле *Тип операции* содержит значение *Поступление* или *Продажа*, а в соответствующее поле *Количество упаковок, шт.* внесена информация о том, сколько упаковок товара поступило в магазин или было продано в течение дня. Заголовок таблицы имеет следующий вид.

ID операции	Дата	ID магазина	Артикул	Количество упаковок, шт.	Тип операции
-------------	------	-------------	---------	--------------------------	--------------

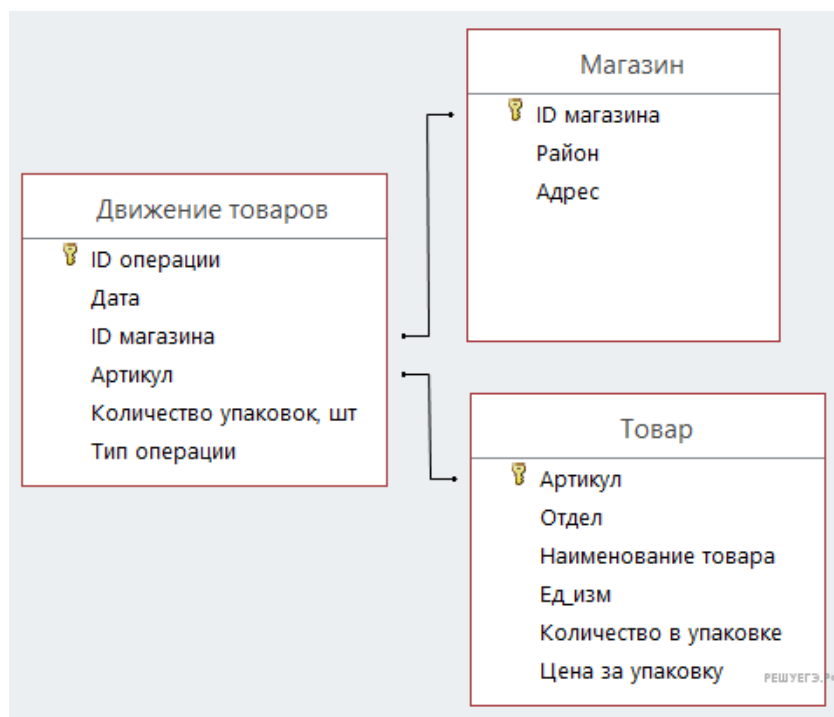
Таблица «Товар» содержит информацию об основных характеристиках каждого товара. Заголовок таблицы имеет следующий вид.

Артикул	Отдел	Наименование товара	Ед. изм.	Количество в упаковке	Цена за упаковку
---------	-------	---------------------	----------	-----------------------	------------------

Таблица «Магазин» содержит информацию о местонахождении магазинов. Заголовок таблицы имеет следующий вид.

ID магазина	Район	Адрес
-------------	-------	-------

На рисунке приведена схема указанной базы данных.



Используя информацию из приведённой базы данных, определите, на сколько увеличилось количество упаковок печенья «Юбилейное», имеющих в наличии в магазинах Центрального района, за период с 1 по 15 июня включительно. В ответе запишите только число.

36. В файле приведён фрагмент базы данных «Кондитерские изделия» о поставках конфет и печенья в магазины районов города. База данных состоит из трёх таблиц.

Задание 3

Таблица «Движение товаров» содержит записи о поступлении товаров со склада в магазины в течение августа 2023 г., а также информацию о проданных товарах. Поле Тип операции содержит значение Поступление или Продажа, а в соответствующее поле Количество упаковок, шт. внесена информация о том, сколько упаковок товара поступило в магазин или было продано по итогам дня. Заголовок таблицы имеет следующий вид.

ID операции	Дата	ID магазина	Артикул	Количество упаковок, шт.	Тип операции
-------------	------	-------------	---------	--------------------------	--------------

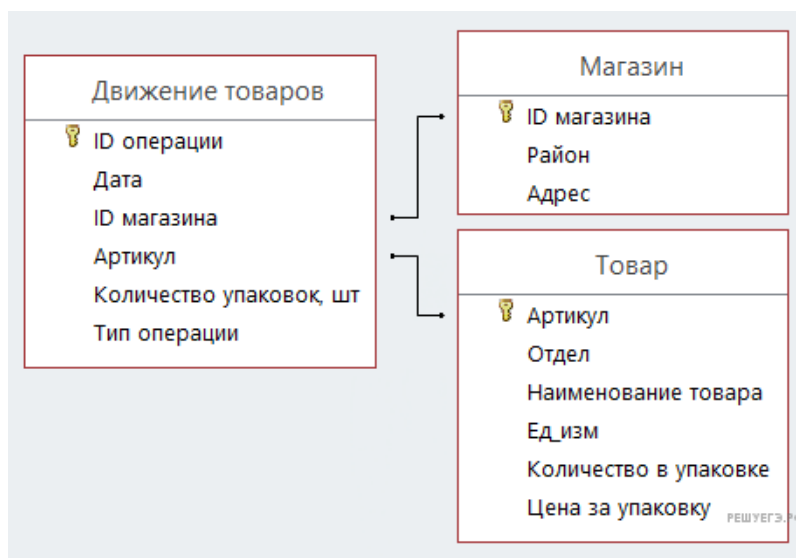
Таблица «Товар» содержит информацию об основных характеристиках каждого товара. Заголовок таблицы имеет следующий вид.

Артикул	Отдел	Наименование	Ед. изм.	Количество в упаковке	Цена за упаковку
---------	-------	--------------	----------	-----------------------	------------------

Таблица «Магазин» содержит информацию о местонахождении магазинов. Заголовок таблицы имеет следующий вид.

ID магазина	Район	Адрес
-------------	-------	-------

На рисунке приведена схема указанной базы данных.



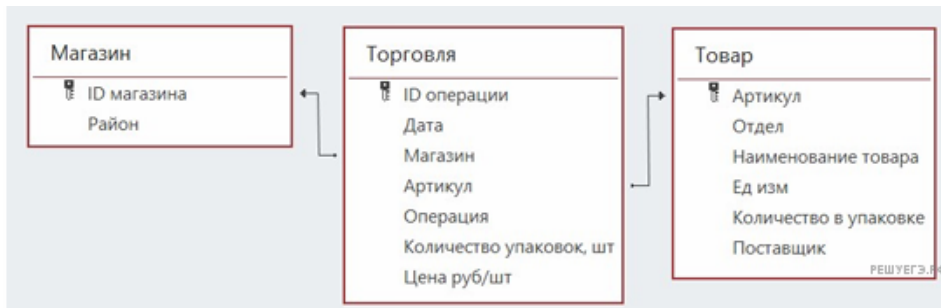
Используя информацию из приведённой базы данных, определите общую массу (в кг) всех видов зефира, полученных магазинами, расположенными на проспекте Революции, за период со 2 по 10 августа включительно.

В ответе запишите только число.

37. В файле приведён фрагмент базы данных «Продукты», содержащей информацию о поставках товаров и их продаже. База данных состоит из трёх таблиц.

Задание 3

Таблица «Торговля» содержит записи о поставках и продажах товаров в магазинах города в июне 2021 г. Таблица «Товар» содержит данные о товарах. Таблица «Магазин» содержит данные о магазинах. На рисунке приведена схема базы данных, содержащая все поля каждой таблицы и связи между ними.

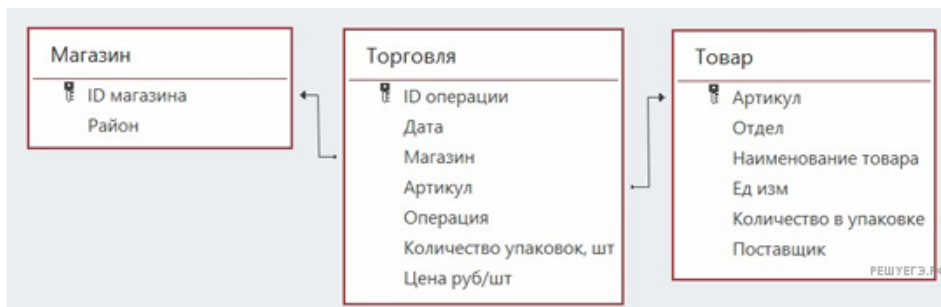


Используя информацию из приведённой базы данных, определите, сколько всего литров всех видов сметаны было поставлено в магазины Центрального района в период с 5 по 9 июня включительно. В ответе запишите число — найденное количество литров.

38. В файле приведён фрагмент базы данных «Продукты», содержащей информацию о поставках товаров и их продаже. База данных состоит из трёх таблиц.

Задание 3

Таблица «Торговля» содержит записи о поставках и продажах товаров в магазинах города в июне 2021 г. Таблица «Товар» содержит данные о товарах. Таблица «Магазин» содержит данные о магазинах. На рисунке приведена схема базы данных, содержащая все поля каждой таблицы и связи между ними.

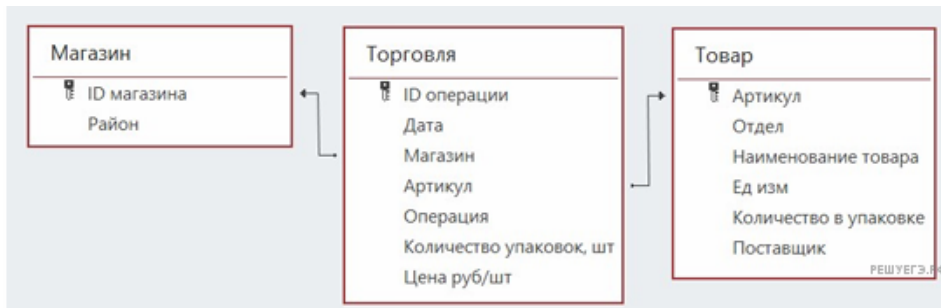


Используя информацию из приведённой базы данных, определите, сколько всего килограммов всех видов паштета было продано в магазинах Первомайского района в период с 17 по 21 июня включительно. В ответе запишите число — найденное количество килограммов.

39. В файле приведён фрагмент базы данных «Продукты», содержащей информацию о поставках товаров и их продаже. База данных состоит из трёх таблиц.

Задание 3

Таблица «Торговля» содержит записи о поставках и продажах товаров в магазинах города в июне 2021 г. Таблица «Товар» содержит данные о товарах. Таблица «Магазин» содержит данные о магазинах. На рисунке приведена схема базы данных, содержащая все поля каждой таблицы и связи между ними.



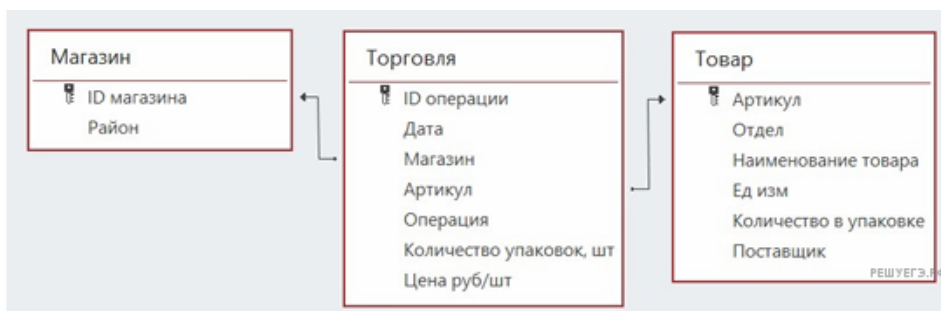
Используя информацию из приведённой базы данных, определите, на сколько упаковок изменился запас всех видов муки в магазинах Заречного района в период с 19 по 21 июня включительно.

В ответе запишите число, равное изменению запаса. Росту запаса соответствуют положительные числа, уменьшению — отрицательные.

40. В файле приведён фрагмент базы данных «Продукты», содержащей информацию о поставках товаров и их продаже. База данных состоит из трёх таблиц.

Задание 3

Таблица «Торговля» содержит записи о поставках и продажах товаров в магазинах города в июне 2021 г. Таблица «Товар» содержит данные о товарах. Таблица «Магазин» содержит данные о магазинах. На рисунке приведена схема базы данных, содержащая все поля каждой таблицы и связи между ними.



Используя информацию из приведённой базы данных, определите, на сколько упаковок изменился запас всех видов соли в магазинах Октябрьского района в период с 7 по 9 июня включительно.

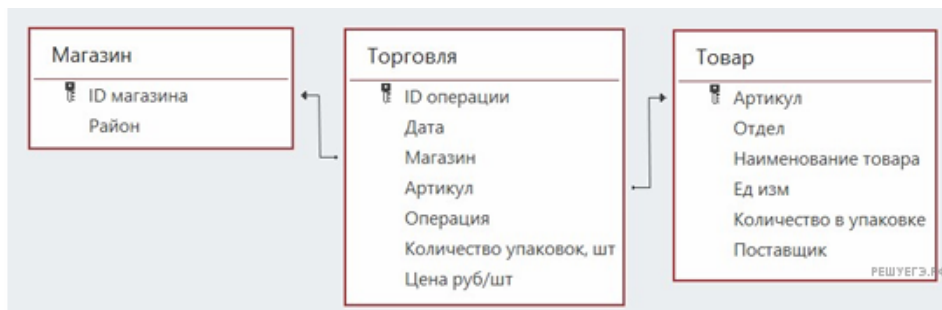
В ответе запишите число, равное изменению запаса. Росту запаса соответствуют положительные числа, уменьшению — отрицательные.

41. В файле приведён фрагмент базы данных «Продукты», содержащей информацию о поставках товаров и их продаже. База данных состоит из трёх таблиц.

Задание 3

Таблица «Торговля» содержит записи о поставках и продажах товаров в магазинах города в июне 2021 г. Таблица «Товар» содержит данные о товарах.

Таблица «Магазин» содержит данные о магазинах. На рисунке приведена схема базы данных, содержащая все поля каждой таблицы и связи между ними.



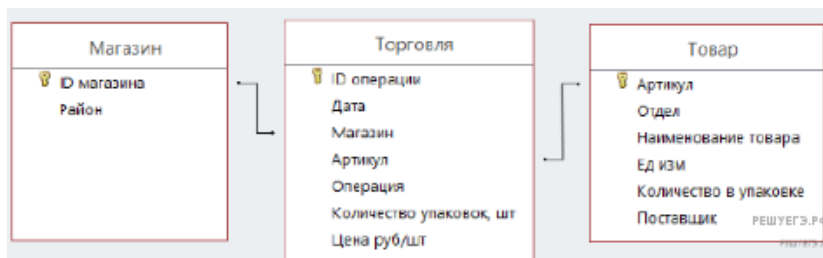
Используя информацию из приведённой базы данных, определите, в какой день в магазинах Заречного района выручка от продажи товаров отдела «Молоко» была наибольшей.

В ответе запишите целое число от 1 до 30, соответствующее числу искомой даты. Например, ответ 1 означает, что наибольшая выручка была получена 1 июня.

42. В файле приведён фрагмент базы данных «Продукты», содержащих информацию о поставках товаров и их продаже.

Задание 3

База данных состоит из трёх таблиц. Таблица «Торговля» содержит данные о поставках и продажах товаров в магазинах города в ноябре 2024 г. Таблица «Товар» содержит записи о товарах. Таблица «Магазин» содержит информацию о магазинах (Поставщиках).



Используя информацию из приведённой базы данных определите, какой магазин Невского района получил наибольшую выручку от продажи молочной продукции (любого товара отдела Молоко) в период с 11 по 20 ноября.

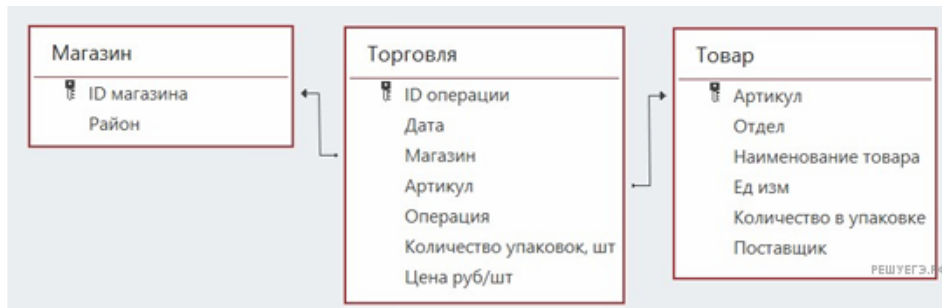
В ответе запишите ID магазина (М — русская буква).

43. В файле приведён фрагмент базы данных «Продукты», содержащей информацию о поставках товаров и их продаже. База данных состоит из трёх таблиц.

Задание 3

Таблица «Торговля» содержит записи о поставках и продажах товаров в магазинах города в июне 2021 г. Таблица «Товар» содержит данные о товарах.

Таблица «Магазин» содержит данные о магазинах. На рисунке приведена схема базы данных, содержащая все поля каждой таблицы и связи между ними.



Используя информацию из приведённой базы данных, определите, в магазины какого района Молокозавод №1 поставил с 4 по 6 июня товаров на наибольшую сумму.

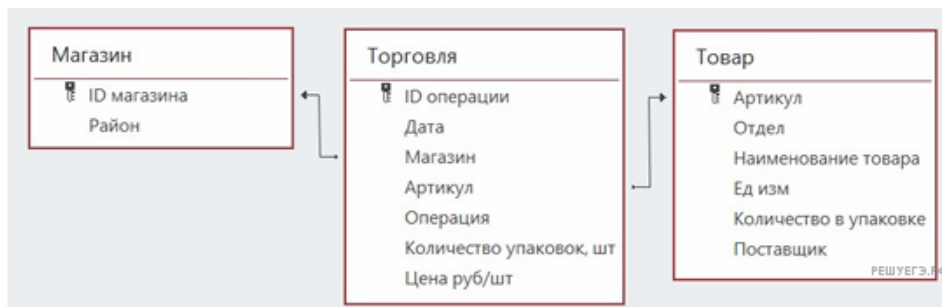
В ответе запишите число — найденное значение наибольшей суммы в рублях.

44. В файле приведён фрагмент базы данных «Продукты», содержащей информацию о поставках товаров и их продаже. База данных состоит из трёх таблиц.

Задание 3

Таблица «Торговля» содержит записи о поставках и продажах товаров в магазинах города в июне 2021 г. Таблица «Товар» содержит данные о товарах.

Таблица «Магазин» содержит данные о магазинах. На рисунке приведена схема базы данных, содержащая все поля каждой таблицы и связи между ними.



Используя информацию из приведённой базы данных, определите, в магазины какого района Молокозавод №2 поставил с 7 по 9 июня товаров на наибольшую сумму.

В ответе запишите число — найденное значение наибольшей суммы в рублях.

45. В файле приведён фрагмент базы данных «Кондитерские изделия» о поставках конфет и печенья в магазины районов города. База данных состоит из трёх таблиц.

Задание 3

Таблица «Движение товаров» содержит записи о поставках товаров в магазины в течение августа 2023 г., а также информацию о проданных товарах. Поле *Тип операции* содержит значение *Поступление* или *Продажа*, а в соответствующее поле *Количество упаковок*, шт. внесена информация о том, сколько упаковок товара поступило в магазин или было продано в течение дня. Заголовок таблицы имеет следующий вид.

ID операции	Дата	ID магазина	Артикул	Тип операции	Количество упаковок, шт.	Цена, руб./шт.
-------------	------	-------------	---------	--------------	--------------------------	----------------

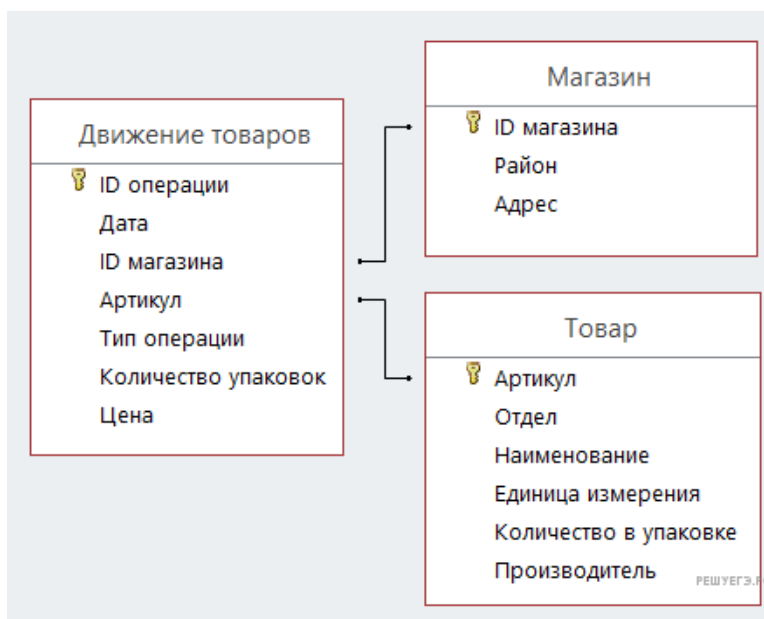
Таблица «Товар» содержит информацию об основных характеристиках каждого товара. Заголовок таблицы имеет следующий вид.

Артикул	Отдел	Наименование	Ед. изм.	Количество в упаковке	Поставщик
---------	-------	--------------	----------	-----------------------	-----------

Таблица «Магазин» содержит информацию о местонахождении магазинов. Заголовок таблицы имеет следующий вид.

ID магазина	Район	Адрес
-------------	-------	-------

На рисунке приведена схема указанной базы данных.



Используя информацию из приведённой базы данных, определите общую массу (в кг) карамельных конфет массой 500 г, проданных магазинами на улице Луговая, за период с 9 по 14 августа включительно.

В ответе запишите только целое число.

46. В файле приведён фрагмент базы данных «Кондитерские изделия» о поставках конфет и печенья в магазины районов города. База данных состоит из трёх таблиц.

Задание 3

Таблица «Движение товаров» содержит записи о поставках товаров в магазины в течение августа 2023 г., а также информацию о проданных товарах. Поле Тип операции содержит значение Поступление или Продажа, а в соответствующее поле Количество упаковок, шт. внесена информация о том, сколько упаковок товара поступило в магазин или было продано в течение дня. Заголовок таблицы имеет следующий вид.

ID операции	Дата	ID магазина	Артикул	Тип операции	Количество упаковок, шт.	Цена, руб./шт.
-------------	------	-------------	---------	--------------	--------------------------	----------------

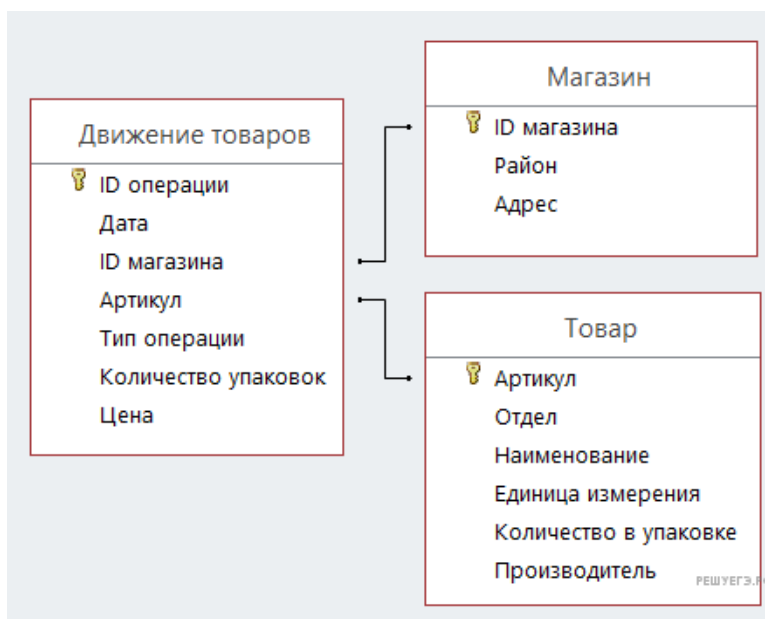
Таблица «Товар» содержит информацию об основных характеристиках каждого товара. Заголовок таблицы имеет следующий вид.

Артикул	Отдел	Наименование	Ед. изм.	Количество в упаковке	Поставщик
---------	-------	--------------	----------	-----------------------	-----------

Таблица «Магазин» содержит информацию о местонахождении магазинов. Заголовок таблицы имеет следующий вид.

ID магазина	Район	Адрес
-------------	-------	-------

На рисунке приведена схема указанной базы данных.



Используя информацию из приведённой базы данных, определите общую массу (в кг) пряников массой 500 г, проданных магазинами на улице Сталеваров, за период с 5 по 19 августа включительно. В ответе запишите только целое число.

47. В файле приведён фрагмент базы данных «Молочные продукты» о поставках товаров в магазины районов города. База данных состоит из трёх таблиц.

Задание 3

Таблица «Движение товаров» содержит записи о поставках товаров в магазины в течение октября 2024 г., а также информацию о проданных товарах. Поле Тип операции содержит значение Поступление или Продажа, а в соответствующее поле Количество упаковок, шт. внесена информация о том, сколько упаковок товара поступило в магазин или было продано в течение дня. Заголовок таблицы имеет следующий вид.

ID операции	Дата	ID магазина	Артикул	Тип операции	Количество упаковок, шт.	Цена, руб./шт.
-------------	------	-------------	---------	--------------	--------------------------	----------------

Таблица «Товар» содержит информацию об основных характеристиках каждого товара. Заголовок таблицы имеет следующий вид.

Артикул	Отдел	Наименование	Ед. изм.	Количество в упаковке	Поставщик
---------	-------	--------------	----------	-----------------------	-----------

Таблица «Магазин» содержит информацию о местонахождении магазинов. Заголовок таблицы имеет следующий вид.

ID магазина	Район	Адрес
-------------	-------	-------

На рисунке приведена схема указанной базы данных.



Используя информацию из приведённой базы данных, определите, на сколько единиц увеличилось количество упаковок йогурта питьевого с ягодными наполнителями (черника, малина, клубника) жирностью 1,5%, имеющих в магазинах

Нагорного района, за период с 1 по 15 октября включительно.

В ответе запишите только число.

48. В файле приведён фрагмент базы данных «Кондитерские изделия» о поставках конфет и печенья в магазины районов города. База данных состоит из трёх таблиц.

Задание 3

Таблица «Движение товаров» содержит записи о поставках товаров в магазины в течение августа 2023 г., а также информацию о проданных товарах. Поле *Тип операции* содержит значение *Поступление* или *Продажа*, а в соответствующее поле *Количество упаковок*, шт. внесена информация о том, сколько упаковок товара поступило в магазин или было продано в течение дня. Заголовок таблицы имеет следующий вид.

ID операции	Дата	ID магазина	Артикул	Тип операции	Количество упаковок, шт.	Цена, руб./шт.
-------------	------	-------------	---------	--------------	--------------------------	----------------

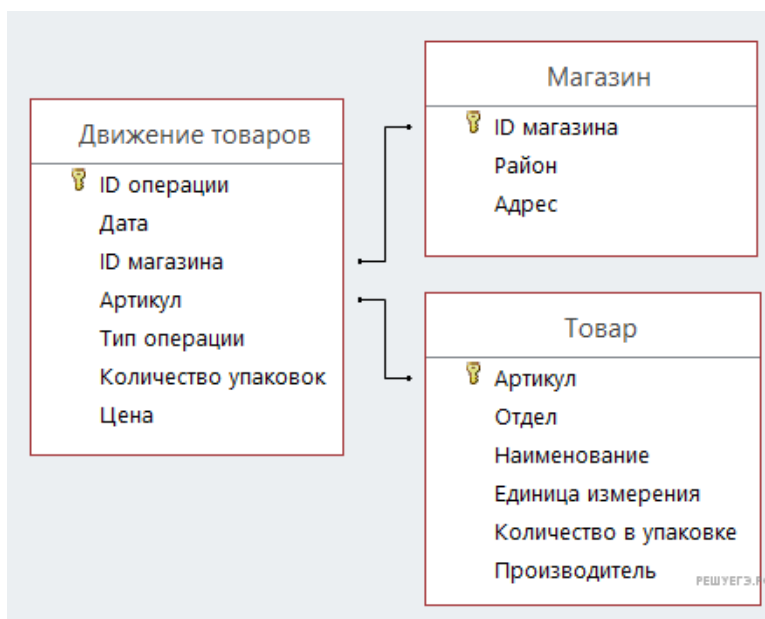
Таблица «Товар» содержит информацию об основных характеристиках каждого товара. Заголовок таблицы имеет следующий вид.

Артикул	Отдел	Наименование	Ед. изм.	Количество в упаковке	Поставщик
---------	-------	--------------	----------	-----------------------	-----------

Таблица «Магазин» содержит информацию о местонахождении магазинов. Заголовок таблицы имеет следующий вид.

ID магазина	Район	Адрес
-------------	-------	-------

На рисунке приведена схема указанной базы данных.



Используя информацию из приведённой базы данных, определите общую массу (в кг) всех видов мармелада, полученных магазинами, расположенных на улице Metallургов, за период с 4 по 19 августа включительно. В ответе запишите только целую часть числа.

49. В файле приведён фрагмент базы данных «Кондитерские изделия» о поставках конфет и печенья в магазины районов города. База данных состоит из трёх таблиц.

Задание 3

Таблица «Движение товаров» содержит записи о поставках товаров в магазины в течение августа 2023 г., а также информацию о проданных товарах. Поле *Тип операции* содержит значение *Поступление* или *Продажа*, а в соответствующее поле *Количество упаковок*, шт. внесена информация о том, сколько упаковок товара поступило в магазин или было продано в течение дня. Заголовок таблицы имеет следующий вид.

ID операции	Дата	ID магазина	Артикул	Тип операции	Количество упаковок, шт.	Цена, руб./шт.
-------------	------	-------------	---------	--------------	--------------------------	----------------

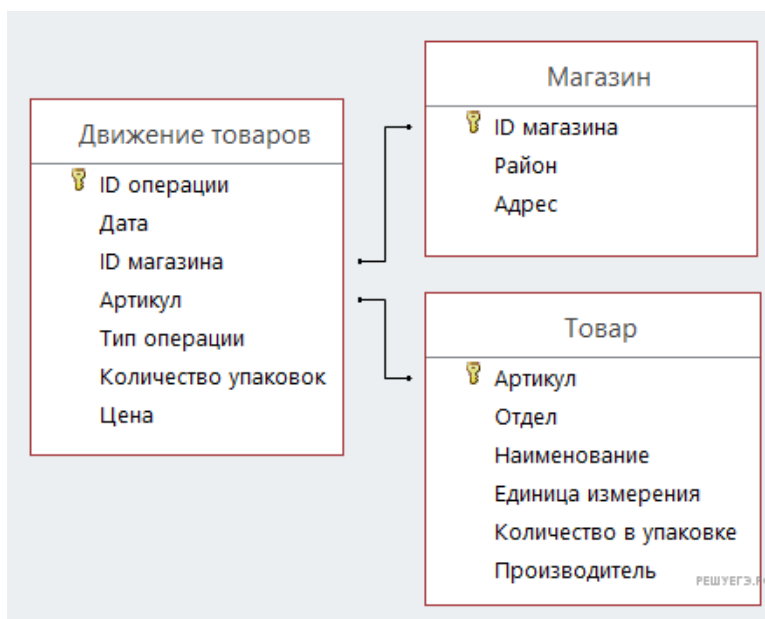
Таблица «Товар» содержит информацию об основных характеристиках каждого товара. Заголовок таблицы имеет следующий вид.

Артикул	Отдел	Наименование	Ед. изм.	Количество в упаковке	Поставщик
---------	-------	--------------	----------	-----------------------	-----------

Таблица «Магазин» содержит информацию о местонахождении магазинов. Заголовок таблицы имеет следующий вид.

ID магазина	Район	Адрес
-------------	-------	-------

На рисунке приведена схема указанной базы данных.



Используя информацию из приведённой базы данных, определите общую стоимость (в руб.) всех видов карамели, проданных в магазинах, расположенных на проспекте Революции, за период с 9 по 18 августа включительно. В ответе запишите только число.

50. В файле приведён фрагмент базы данных «Молочные продукты» о поставках товаров в магазины районов города. База данных состоит из трёх таблиц.

Задание 3

Таблица «Движение товаров» содержит записи о поставках товаров в магазины в течение октября 2024 г., а также информацию о проданных товарах. Поле Тип операции содержит значение Поступление или Продажа, а в соответствующее поле Количество упаковок, шт. внесена информация о том, сколько упаковок товара поступило в магазин или было продано в течение дня. Заголовок таблицы имеет следующий вид.

ID операции	Дата	ID магазина	Артикул	Тип операции	Количество упаковок, шт.	Цена, руб./шт.
-------------	------	-------------	---------	--------------	--------------------------	----------------

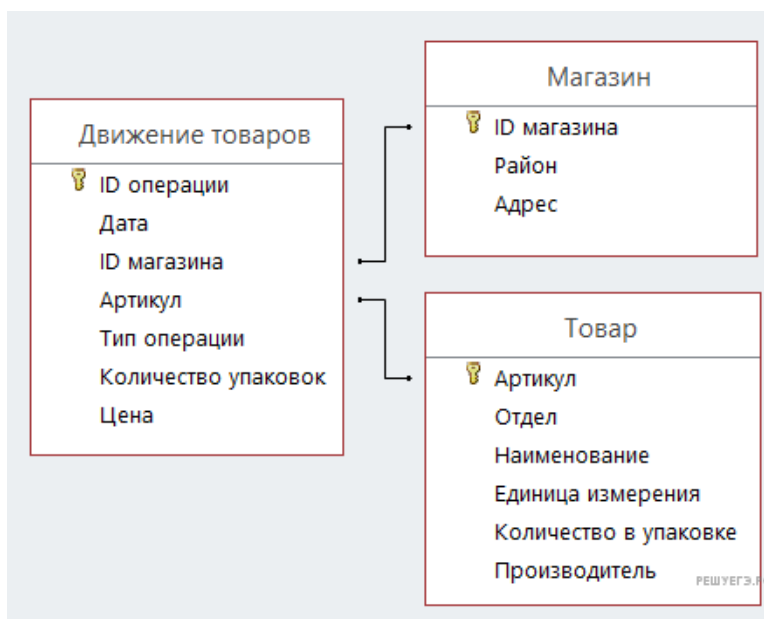
Таблица «Товар» содержит информацию об основных характеристиках каждого товара. Заголовок таблицы имеет следующий вид.

Артикул	Отдел	Наименование	Ед_изм	Количество в упаковке	Поставщик
---------	-------	--------------	--------	-----------------------	-----------

Таблица «Магазин» содержит информацию о местонахождении магазинов. Заголовок таблицы имеет следующий вид.

ID магазина	Район	Адрес
-------------	-------	-------

На рисунке приведена схема указанной базы данных.



Используя информацию из приведённой базы данных, определите, на какую сумму (в руб.) было продано варенца термостатного в магазинах Нагорного района за период с 5 по 14 октября включительно.

В ответе запишите только число.

51. В файле приведён фрагмент базы данных «Хозтовары» о поставках бытовой химии и средств гигиены в магазины районов города. База данных состоит из трёх таблиц.

Задание 3

Таблица «Движение товаров» содержит записи о поставках товаров в магазины в течение сентября 2023 г., а также информацию о проданных товарах. Поле Тип операции содержит значение *Поступление* или *Продажа*, а в соответствующее поле *Количество упаковок, шт.* внесена информация о том, сколько упаковок товара поступило в магазин или было продано в течение дня. Заголовок таблицы имеет следующий вид.

ID операции	Дата	ID магазина	Артикул	Тип операции	Количество упаковок, шт.	Цена, руб./шт.
-------------	------	-------------	---------	--------------	--------------------------	----------------

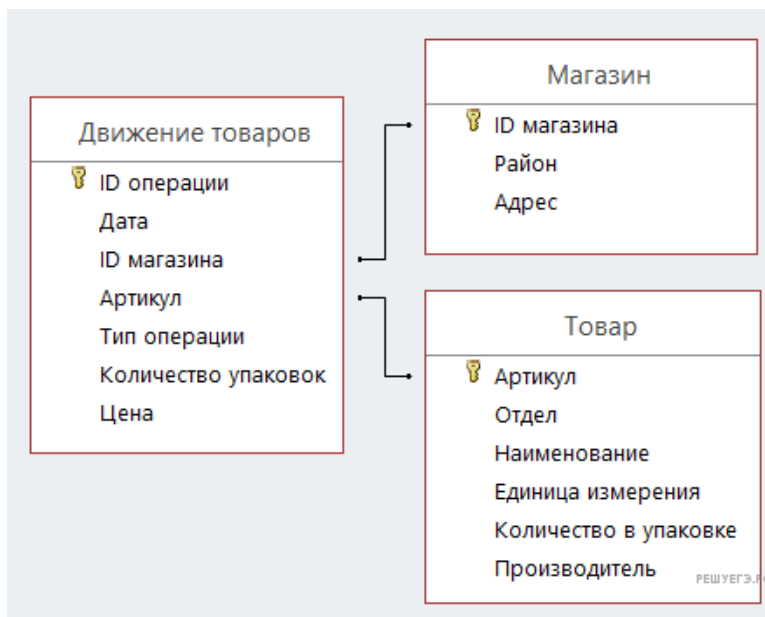
Таблица «Товар» содержит информацию об основных характеристиках каждого товара. Заголовок таблицы имеет следующий вид.

Артикул	Отдел	Наименование	Ед_изм	Количество в упаковке	Поставщик
---------	-------	--------------	--------	-----------------------	-----------

Таблица «Магазин» содержит информацию о местонахождении магазинов. Заголовок таблицы имеет следующий вид.

ID магазина	Район	Адрес
-------------	-------	-------

На рисунке приведена схема указанной базы данных.



Используя информацию из приведённой базы данных, определите, на сколько литров увеличилось количество всех видов гелей для душа, имеющихся в наличии в магазинах на проспекте Мира, за период с 14 по 25 сентября включительно.

В ответе запишите целую часть полученного числа.

52. В файле приведён фрагмент базы данных «Хозтовары» о поставках бытовой химии и средств гигиены в магазины районов города. База данных состоит из трёх таблиц.

Задание 3

Таблица «Движение товаров» содержит записи о поставках товаров в магазины в течение сентября 2023 г., а также информацию о проданных товарах. Поле Тип операции содержит значение *Поступление* или *Продажа*, а в соответствующее поле *Количество упаковок, шт.* внесена информация о том, сколько упаковок товара поступило в магазин или было продано в течение дня. Заголовок таблицы имеет следующий вид.

ID операции	Дата	ID магазина	Артикул	Тип операции	Количество упаковок, шт.	Цена, руб./шт.
-------------	------	-------------	---------	--------------	--------------------------	----------------

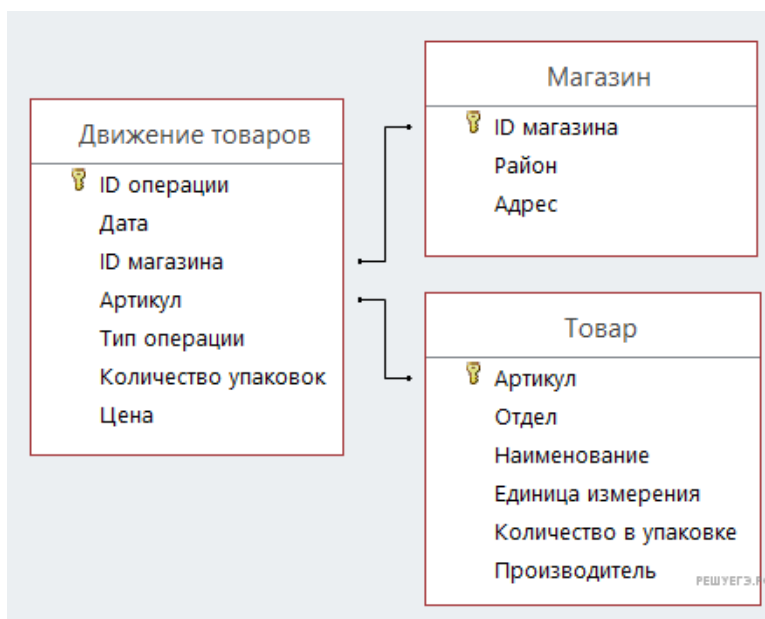
Таблица «Товар» содержит информацию об основных характеристиках каждого товара. Заголовок таблицы имеет следующий вид.

Артикул	Отдел	Наименование	Ед_изм	Количество в упаковке	Поставщик
---------	-------	--------------	--------	-----------------------	-----------

Таблица «Магазин» содержит информацию о местонахождении магазинов. Заголовок таблицы имеет следующий вид.

ID магазина	Район	Адрес
-------------	-------	-------

На рисунке приведена схема указанной базы данных.



Используя информацию из приведённой базы данных, определите, на сколько литров увеличилось количество всех видов ополаскивателя для белья, имеющегося в наличии в магазинах на улице Металлургов, за период с 10 по 28 сентября включительно.

В ответе запишите целую часть полученного числа.

53. В файле приведён фрагмент базы данных «Молочные продукты» о поставках товаров в магазины районов города. База данных состоит из трёх таблиц.

Задание 3

Таблица «Движение товаров» содержит записи о поставках товаров в магазины в течение октября 2024 г., а также информацию о проданных товарах. Поле *Тип операции* содержит значение *Поступление* или *Продажа*, а в соответствующее поле *Количество упаковок, шт.* внесена информация о том, сколько упаковок товара поступило в магазин или было продано в течение дня.

Заголовок таблицы имеет следующий вид.

ID операции	Дата	ID магазина	Артикул	Количество упаковок, шт.	Тип операции
-------------	------	-------------	---------	--------------------------	--------------

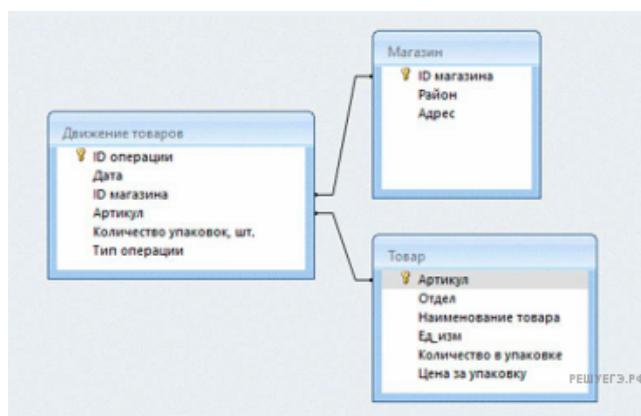
Таблица «Товар» содержит информацию об основных характеристиках каждого товара. Заголовок таблицы имеет следующий вид.

Артикул	Отдел	Наименование	Ед. изм.	Количество в упаковке	Цена за упаковку
---------	-------	--------------	----------	-----------------------	------------------

Таблица «Магазин» содержит информацию о местонахождении магазинов. Заголовок таблицы имеет следующий вид.

ID магазина	Район	Адрес
-------------	-------	-------

На рисунке приведена схема указанной базы данных.



Используя информацию из приведённой базы данных, определите, на какую сумму (в руб.) было продано сметаны всех видов в магазинах Заречного района за период с 7 по 15 октября включительно. В ответе запишите только число.

54. В файле приведён фрагмент базы данных «Молочные продукты» о поставках товаров в магазины районов города. База данных состоит из трёх таблиц.

Задание 3

Таблица «Движение товаров» содержит записи о поставках товаров в магазины в течение октября 2024 г., а также информацию о проданных товарах. Поле *Тип операции* содержит значение *Поступление* или *Продажа*, а в соответствующее поле *Количество упаковок, шт.* внесена информация о том, сколько упаковок товара поступило в магазин или было продано в течение дня.

Заголовок таблицы имеет следующий вид.

ID операции	Дата	ID магазина	Артикул	Количество упаковок, шт.	Тип операции
-------------	------	-------------	---------	--------------------------	--------------

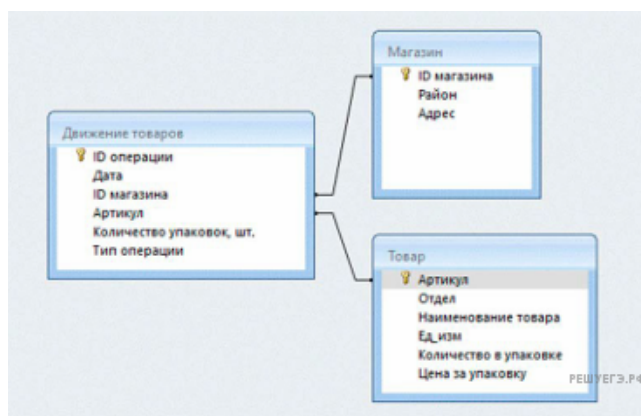
Таблица «Товар» содержит информацию об основных характеристиках каждого товара. Заголовок таблицы имеет следующий вид.

Артикул	Отдел	Наименование	Ед. изм.	Количество в упаковке	Цена за упаковку
---------	-------	--------------	----------	-----------------------	------------------

Таблица «Магазин» содержит информацию о местонахождении магазинов. Заголовок таблицы имеет следующий вид.

ID магазина	Район	Адрес
-------------	-------	-------

На рисунке приведена схема указанной базы данных.



Используя информацию из приведённой базы данных, определите, на какую сумму (в руб.) было продано сливок всех видов в магазинах Центрального района за период с 5 по 19 октября включительно.

В ответе запишите только число.

55. В файле приведён фрагмент базы данных «Театр», принадлежащей одному из театров города.

Задание 3

База данных состоит из трёх связанных прямоугольных таблиц. Таблица «Продажа билетов» содержит записи о количестве проданных различным категориям посетителей билетов на спектакли. Заголовок таблицы имеет следующий вид.

ID операции	Дата покупки	Время покупки	Код спектакля	ID тарифа	Дата спектакля	Количество купленных билетов для взрослых (без льгот)	Количество купленных льготных билетов для взрослых	Количество купленных детских билетов
-------------	--------------	---------------	---------------	-----------	----------------	---	--	--------------------------------------

Таблица «Цены» содержит информацию о ценах на билеты в зависимости от времени и сезона. Заголовок таблицы имеет следующий вид.

ID тарифа	Название тарифа	Стоимость билета для взрослого (без льгот), руб.	Стоимость льготного билета для взрослого, руб.	Стоимость детского билета, руб.
-----------	-----------------	--	--	---------------------------------

Таблица «Спектакли» содержит информацию о репертуаре театра. Заголовок таблицы имеет следующий вид.

Код спектакля	Название	Автор	Режиссёр	Жанр
---------------	----------	-------	----------	------

На рисунке приведена схема указанной базы данных.



Используя информацию из приведённой базы данных, определите общую сумму (в рублях), вырученную за детские билеты на все драмы М. А. Булгакова, проданные посетителям театра, по тарифу утреннего или вечернего спектакля летнего сезона.

В ответе запишите только число.

56. В файле приведён фрагмент базы данных «Театр», принадлежащей одному из театров города.

Задание 3

База данных состоит из трёх связанных прямоугольных таблиц. Таблица «Продажа билетов» содержит записи о количестве проданных различным категориям посетителей билетов на спектакли. Заголовок таблицы имеет следующий вид.

ID операции	Дата покупки	Время покупки	Код спектакля	ID тарифа	Дата спектакля	Количество купленных билетов для взрослых (без льгот)	Количество купленных льготных билетов для взрослых	Количество купленных детских билетов
-------------	--------------	---------------	---------------	-----------	----------------	---	--	--------------------------------------

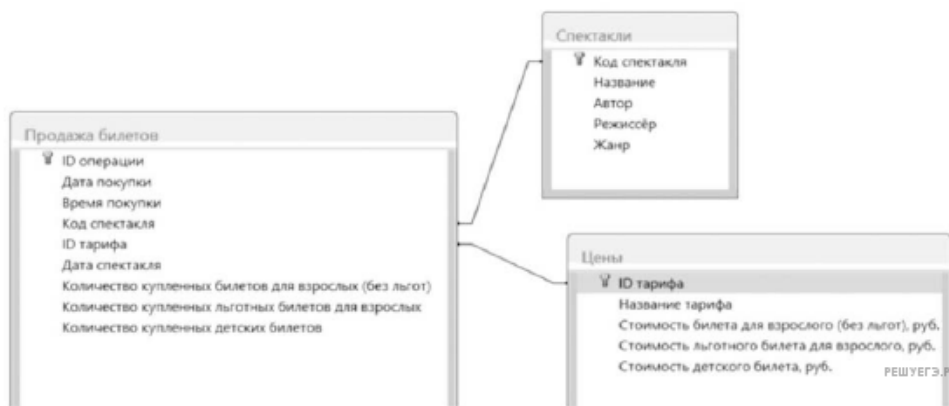
Таблица «Цены» содержит информацию о ценах на билеты в зависимости от времени и сезона. Заголовок таблицы имеет следующий вид.

ID тарифа	Название тарифа	Стоимость билета для взрослого (без льгот), руб.	Стоимость льготного билета для взрослого, руб.	Стоимость детского билета, руб.
-----------	-----------------	--	--	---------------------------------

Таблица «Спектакли» содержит информацию о репертуаре театра. Заголовок таблицы имеет следующий вид.

Код спектакля	Название	Автор	Режиссёр	Жанр
---------------	----------	-------	----------	------

На рисунке приведена схема указанной базы данных.



Используя информацию из приведённой базы данных, определите общую сумму (в рублях), вырученную за детские билеты на все драмы М. А. Булгакова, проданные посетителям театра, по тарифу дневного или вечернего спектакля зимнего сезона.

В ответе запишите только число.

59. В файле приведён фрагмент базы данных «Театр», принадлежащей одному из театров города.

Задание 3

База данных состоит из трёх связанных прямоугольных таблиц. Таблица «Продажа билетов» содержит записи о количестве проданных различным категориям посетителей билетов на спектакли. Заголовок таблицы имеет следующий вид.

ID операции	Дата покупки	Время покупки	Код спектакля	ID тарифа	Дата спектакля	Количество купленных билетов для взрослых (без льгот)	Количество купленных льготных билетов для взрослых	Количество купленных детских билетов
-------------	--------------	---------------	---------------	-----------	----------------	---	--	--------------------------------------

Таблица «Цены» содержит информацию о ценах на билеты в зависимости от времени и сезона. Заголовок таблицы имеет следующий вид.

ID тарифа	Название тарифа	Стоимость билета для взрослого (без льгот), руб.	Стоимость льготного билета для взрослого, руб.	Стоимость детского билета, руб.
-----------	-----------------	--	--	---------------------------------

Таблица «Спектакли» содержит информацию о репертуаре театра. Заголовок таблицы имеет следующий вид.

Код спектакля	Название	Автор	Режиссёр	Жанр
---------------	----------	-------	----------	------

На рисунке приведена схема указанной базы данных.



Используя информацию из приведённой базы данных, определите общую сумму (в рублях), вырученную за билеты на все комедии под режиссурой Мухиной В. Д., проданные посетителям-детям по тарифам утреннего спектакля в период с 8 февраля по 4 августа включительно.

В ответе запишите только число.

60. В файле приведён фрагмент базы данных «Театр», принадлежащей одному из театров города.

Задание 3

База данных состоит из трёх связанных прямоугольных таблиц. Таблица «Продажа билетов» содержит записи о количестве проданных различным категориям посетителей билетов на спектакли. Заголовок таблицы имеет следующий вид.

ID операции	Дата покупки	Время покупки	Код спектакля	ID тарифа	Дата спектакля	Количество купленных билетов для взрослых (без льгот)	Количество купленных льготных билетов для взрослых	Количество купленных детских билетов
-------------	--------------	---------------	---------------	-----------	----------------	---	--	--------------------------------------

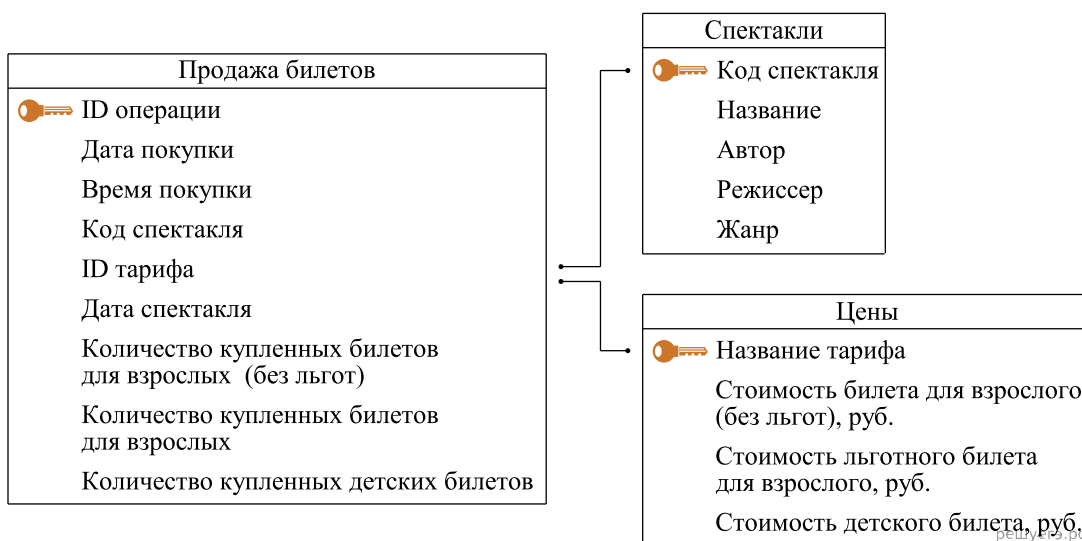
Таблица «Цены» содержит информацию о ценах на билеты в зависимости от времени и сезона. Заголовок таблицы имеет следующий вид.

ID тарифа	Название тарифа	Стоимость билета для взрослого (без льгот), руб.	Стоимость льготного билета для взрослого, руб.	Стоимость детского билета, руб.
-----------	-----------------	--	--	---------------------------------

Таблица «Спектакли» содержит информацию о репертуаре театра. Заголовок таблицы имеет следующий вид.

Код спектакля	Название	Автор	Режиссёр	Жанр
---------------	----------	-------	----------	------

На рисунке приведена схема указанной базы данных.



Используя информацию из приведённой базы данных, определите общую сумму (в рублях), вырученную за билеты на все сказки под режиссурой Зимина В. В., проданные взрослым посетителям театра, не имеющим льготы, по тарифам утреннего спектакля в период с 19 апреля по 6 ноября включительно.

В ответе запишите только число.

61. В файле приведён фрагмент базы данных «Продукты» о поставках товаров в магазины районов города. База данных состоит из трёх таблиц.

Задание 3

Таблица «Движение товаров» содержит записи о поставках товаров в магазины в течение первой декады июня 2025 г., а также информацию о проданных товарах. Поле Тип операции содержит значение Поступление или Продажа, а в соответствующее поле Количество упаковок внесена информация о том, сколько упаковок товара поступило в магазин или было продано в течение дня. Заголовок таблицы имеет следующий вид.

ID операции	Дата	ID магазина	Артикул	Тип операции	Количество упаковок	Цена
-------------	------	-------------	---------	--------------	---------------------	------

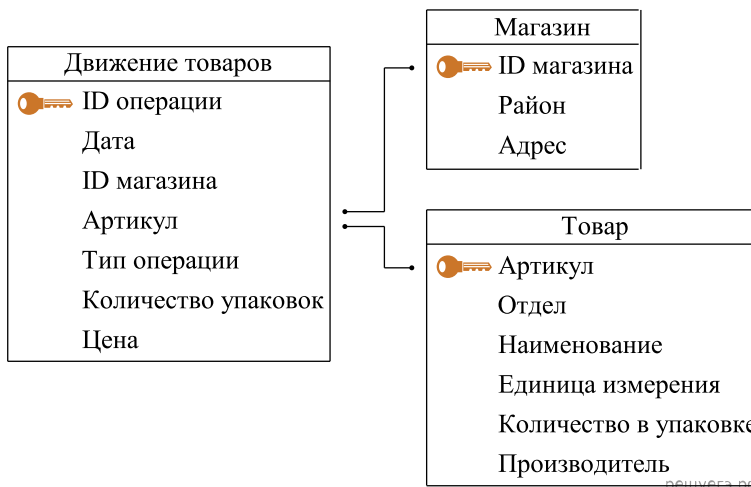
Таблица «Товар» содержит информацию об основных характеристиках каждого товара. Заголовок таблицы имеет следующий вид.

Артикул	Отдел	Наименование	Единица измерения	Количество в упаковке	Производитель
---------	-------	--------------	-------------------	-----------------------	---------------

Таблица «Магазин» содержит информацию о местонахождении магазинов. Заголовок таблицы имеет следующий вид.

ID магазина	Район	Адрес
-------------	-------	-------

На рисунке приведена схема указанной базы данных.



Используя информацию из приведённой базы данных, определите общий вес (в кг) крахмала картофельного, поступившего в магазины Октябрьского района за период с 1 по 8 июня включительно. В ответе запишите только число.