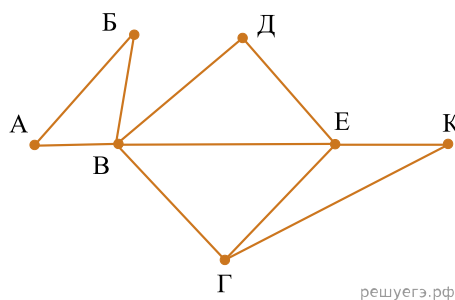


1. На рисунке справа схема дорог Н-ского района изображена в виде графа, в таблице содержатся сведения о длинах этих дорог (в километрах).

	П1	П2	П3	П4	П5	П6	П7
П1		45		10			
П2	45			40		55	
П3					15	60	
П4	10	40				20	35
П5			15			55	
П6		55	60	20	55		45
П7				35		45	

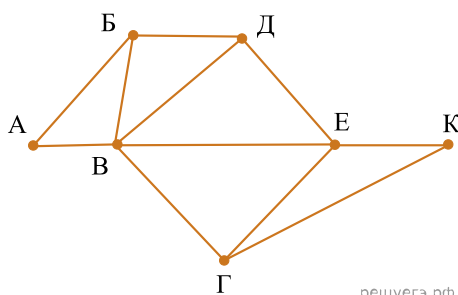


решуегэ.рф

Так как таблицу и схему рисовали независимо друг от друга, то нумерация населённых пунктов в таблице никак не связана с буквенными обозначениями на графе. Определите, какова длина дороги из пункта *В* в пункт *Е*. В ответе запишите целое число — так, как оно указано в таблице.

2. На рисунке схема дорог Н-ского района изображена в виде графа, в таблице содержатся сведения о длинах этих дорог (в километрах).

	П1	П2	П3	П4	П5	П6	П7
П1		40		15			
П2	40			35		50	
П3					10	65	8
П4	15	35				22	33
П5			10			50	
П6		50	65	22	50		40
П7			8	33		40	

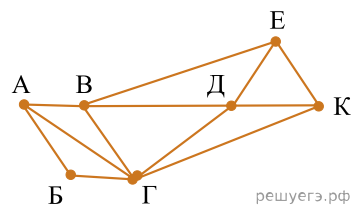


решуегэ.рф

Так как таблицу и схему рисовали независимо друг от друга, нумерация населённых пунктов в таблице никак не связана с буквенными обозначениями на графе. Определите длину дороги из пункта *Б* в пункт *Д*. В ответе запишите целое число.

3. На рисунке схема дорог Н-ского района изображена в виде графа, в таблице содержатся сведения о длинах этих дорог (в километрах).

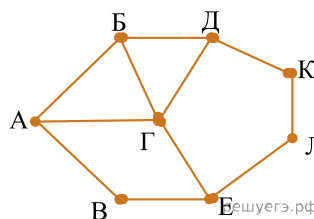
	П1	П2	П3	П4	П5	П6	П7
П1		57		20		25	
П2	57		22	42	8		21
П3		22			23		8
П4	20	42				7	33
П5		8	23				
П6	25			7			9
П7		21	8	33		9	



Так как таблицу и схему рисовали независимо друг от друга, нумерация населённых пунктов в таблице никак не связана с буквенными обозначениями на графе. Определите длину дороги из пункта А в пункт Г. В ответе запишите целое число.

4. На рисунке справа схема дорог Н-ского района изображена в виде графа, в таблице содержатся сведения о длинах этих дорог (в километрах).

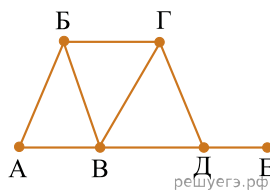
	П1	П2	П3	П4	П5	П6	П7	П8
П1		15		20				18
П2	15		25					
П3		25				24		22
П4	20						12	
П5						13	16	17
П6			24		13			15
П7				12	16			
П8	18		22		17	15		



Так как таблицу и схему рисовали независимо друг от друга, нумерация населённых пунктов в таблице никак не связана с буквенными обозначениями на графе. Определите длину дороги из пункта Б в пункт Г. В ответе запишите целое число.

5. На рисунке справа схема дорог Н-ского района изображена в виде графа; в таблице слева содержатся сведения о протяжённости каждой из этих дорог (в километрах).

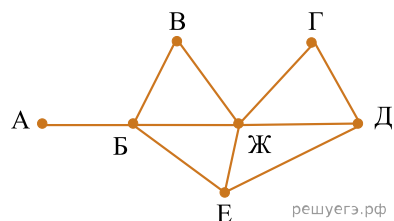
	П1	П2	П3	П4	П5	П6
П1		10			8	5
П2	10			20	12	
П3				4		
П4		20	4		15	
П5	8	12		15		7
П6	5				7	



Так как таблицу и схему рисовали независимо друг от друга, то нумерация населённых пунктов в таблице никак не связана с буквенными обозначениями на графе. Определите, какова длина дороги из пункта Б в пункт В. В ответе запишите целое число — так, как оно указано в таблице.

6. На рисунке справа схема дорог Н-ского района изображена в виде графа; в таблице слева содержатся сведения о протяжённости каждой из этих дорог (в километрах).

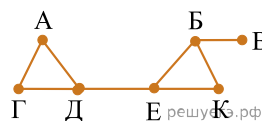
	П1	П2	П3	П4	П5	П6	П7
П1		20		15	10	8	9
П2	20			11		25	
П3					5		
П4	15	11					
П5	10		5			7	6
П6	8	25			7		
П7	9				6		



Так как таблицу и схему рисовали независимо друг от друга, то нумерация населённых пунктов в таблице никак не связана с буквенными обозначениями на графе. Определите, какова протяжённость дороги из пункта Д в пункт Е. В ответе запишите целое число — так, как оно указано в таблице.

7. На рисунке схема дорог Н-ского района изображена в виде графа, в таблице содержатся сведения о длине этих дорог в километрах.

	П1	П2	П3	П4	П5	П6	П7
П1		10					12
П2	10						8
П3					11	15	
П4						5	
П5			11			13	6
П6			15	5	13		
П7	12	8			6		

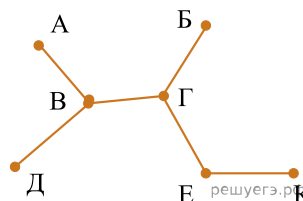


Так как таблицу и схему рисовали независимо друг от друга, то нумерация населённых пунктов в таблице никак не связана с буквенными обозначениями на графе. Определите длину дороги из пункта *Б* в пункт *Е*. В ответе запишите целое число.

**ВНИМАНИЕ!** Длины отрезков на схеме не отражают длины дорог.

8. На рисунке схема дорог Н-ского района изображена в виде графа, в таблице содержатся сведения о длине этих дорог в километрах.

	П1	П2	П3	П4	П5	П6	П7
П1			10				
П2			20				
П3	10	20		8			
П4			8		15	12	
П5				15			
П6				12			18
П7						18	

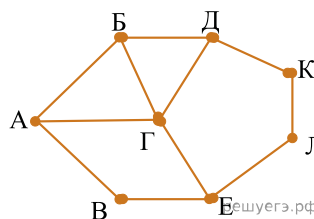


Так как таблицу и схему рисовали независимо друг от друга, то нумерация населённых пунктов в таблице никак не связана с буквенными обозначениями на графе. Определите длину дороги из пункта *Б* в пункт *Г*.

**ВНИМАНИЕ!** Длины отрезков на схеме не отражают длины дорог.

9. На рисунке схема дорог Н-ского района изображена в виде графа, в таблице содержатся сведения о длине этих дорог в километрах.

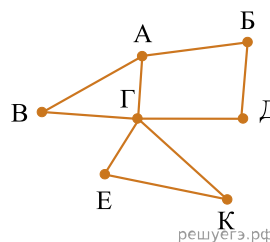
	П1	П2	П3	П4	П5	П6	П7	П8
П1		15		20				18
П2	15		25					
П3		25				24		22
П4	20						12	
П5						13	16	17
П6			24		13			15
П7				12	16			
П8	18		22		17	15		



Так как таблицу и схему рисовали независимо друг от друга, нумерация населённых пунктов в таблице никак не связана с буквенными обозначениями на графе. Определите длину дороги от пункта В до пункта Е. В ответе запишите целое число.

10. На рисунке схема дорог Н-ского района изображена в виде графа, в таблице содержатся сведения о длине этих дорог в километрах.

	П1	П2	П3	П4	П5	П6	П7
П1			15				20
П2						22	18
П3	15						10
П4					9	8	
П5				9			12
П6		22		8			14
П7	20	18	10		12	14	

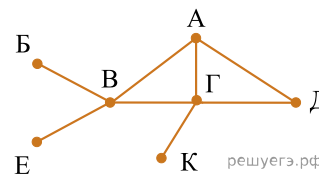


Так как таблицу и схему рисовали независимо друг от друга, то нумерация населённых пунктов в таблице никак не связана с буквенными обозначениями на графе. Определите длину дороги из пункта Г в пункт Д. В ответе запишите целое число.

**ВНИМАНИЕ!** Длины отрезков на схеме не отражают длины дорог.

11. На рисунке справа схема дорог Н-ского района изображена в виде графа; в таблице слева содержатся сведения о протяжённости каждой из этих дорог (в километрах).

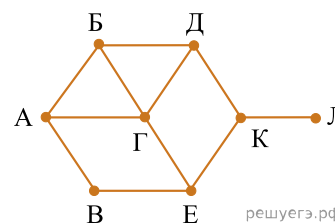
	П1	П2	П3	П4	П5	П6	П7
П1		7					
П2	7		8		3	4	
П3		8		11	6		
П4			11		5		
П5		3	6	5			9
П6		4					
П7					9		



Так как таблицу и схему рисовали независимо друг от друга, то нумерация населённых пунктов в таблице никак не связана с буквенными обозначениями на графе. Определите, какова длина дороги из пункта А в пункт Г. В ответе запишите целое число — так, как оно указано в таблице.

12. На рисунке схема дорог изображена в виде графа, в таблице содержатся сведения о длине этих дорог в километрах.

	П1	П2	П3	П4	П5	П6	П7	П8
П1				37				23
П2			25			44		46
П3		25						
П4	37				34		42	
П5				34		24	28	
П6		44			24		29	
П7				42	28	29		31
П8	23	46					31	

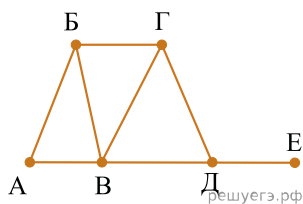


Так как таблицу и схему рисовали независимо друг от друга, то нумерация населённых пунктов в таблице никак не связана с буквенными обозначениями на графе. Определите длину дороги из пункта Б в пункт Г. В ответе запишите целое число.

**ВНИМАНИЕ.** Длины отрезков на схеме не отражают длины дорог.

13. На рисунке схема дорог изображена в виде графа, в таблице содержатся сведения о длине этих дорог в километрах.

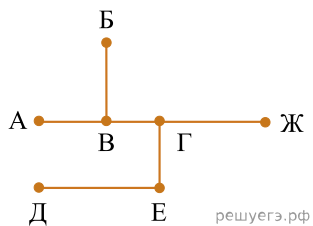
	П1	П2	П3	П4	П5	П6
П1		7			15	4
П2	7				12	
П3				5		
П4			5		10	9
П5	15	12		10		16
П6	4			9	16	



Так как таблицу и схему рисовали независимо друг от друга, нумерация населённых пунктов в таблице никак не связана с буквенными обозначениями на графе. Определите длину пути из пункта *Б* в пункт *В*, если передвигаться можно только по указанным дорогам. В ответе запишите целое число — длину пути в километрах.

14. На рисунке справа схема дорог Н-ского района изображена в виде графа; в таблице слева содержатся сведения о протяжённости каждой из этих дорог (в километрах).

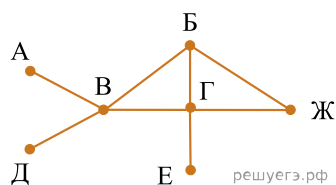
	П1	П2	П3	П4	П5	П6	П7
П1						10	
П2			7		8	12	
П3		7					
П4					5		
П5		8		5			4
П6	10	12					
П7					4		



Так как таблицу и схему рисовали независимо друг от друга, то нумерация населённых пунктов в таблице никак не связана с буквенными обозначениями на графе. Определите, какова длина дороги из пункта *Г* в пункт *Ж*. В ответе запишите целое число — так, как оно указано в таблице.

15. На рисунке справа схема дорог Н-ского района изображена в виде графа; в таблице слева содержатся сведения о протяжённости каждой из этих дорог (в километрах).

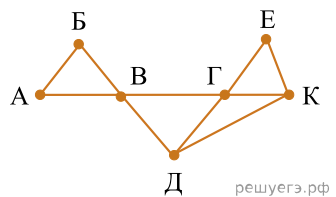
	П1	П2	П3	П4	П5	П6	П7
П1						10	
П2						12	
П3				10	9	5	
П4			10		5		
П5			9	5		8	4
П6	10	12	5		8		
П7					4		



Так как таблицу и схему рисовали независимо друг от друга, то нумерация населённых пунктов в таблице никак не связана с буквенными обозначениями на графе. Определите, какова длина дороги из пункта Г в пункт Е. В ответе запишите целое число — так, как оно указано в таблице.

16. На рисунке справа схема дорог Н-ского района изображена в виде графа; в таблице слева содержатся сведения о протяжённости каждой из этих дорог (в километрах).

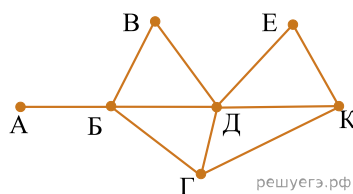
	П1	П2	П3	П4	П5	П6	П7
П1		11	5		12		
П2	11		8	15		23	
П3	5	8			10		7
П4		15				10	
П5	12		10				11
П6		23		10			
П7			7		11		



Так как таблицу и схему рисовали независимо друг от друга, то нумерация населённых пунктов в таблице никак не связана с буквенными обозначениями на графе. Определите, какова длина дороги из пункта В в пункт Г. В ответе запишите целое число — так, как оно указано в таблице.

17. На рисунке схема дорог Н-ского района изображена в виде графа, в таблице содержатся сведения о протяжённости каждой из этих дорог (в километрах).

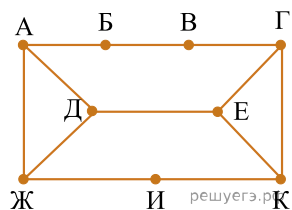
	П1	П2	П3	П4	П5	П6	П7
П1				9			7
П2				5		11	
П3						12	
П4	9	5			4	13	15
П5				4		10	8
П6		11	12	13	10		
П7	7			15	8		



Так как таблицу и схему рисовали независимо друг от друга, то нумерация населённых пунктов в таблице никак не связана с буквенными обозначениями на графе. Определите, какова протяжённость дороги из пункта Д в пункт Е. В ответе запишите целое число — так, как оно указано в таблице.

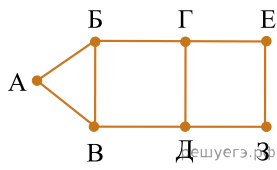
18. На рисунке схема дорог изображена в виде графа, в таблице звёздочками обозначено наличие дороги между населёнными пунктами. Так как таблицу и схему рисовали независимо друг от друга, нумерация населённых пунктов в таблице никак не связана с буквенными обозначениями на графе. Укажите номера, которые могут соответствовать пунктам Д и Е. В ответе запишите эти номера в порядке возрастания без пробелов и знаков препинания.

	П1	П2	П3	П4	П5	П6	П7	П8	П9
П1		*			*	*			
П2	*				*				*
П3				*		*		*	
П4			*			*	*		
П5	*	*					*		
П6	*		*	*					
П7				*	*				
П8			*						*
П9		*						*	



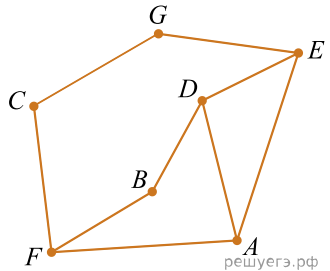
19. На рисунке справа схема дорог Н-ского района изображена в виде графа, в таблице содержатся сведения о длинах этих дорог (в километрах). Так как таблицу и схему рисовали независимо друг от друга, то нумерация населённых пунктов в таблице никак не связана с буквенными обозначениями на графе. В таблице в левом столбце указаны номера пунктов, откуда совершается движение, в первой строке — куда. Найдите сумму длин дорог из пункта Г в пункт Е и из пункта Д в З.

	П1	П2	П3	П4	П5	П6	П7
П1						12	7
П2					10	11	9
П3				5	6	3	
П4			5		15		
П5		10	6	15			
П6	12	11	3				
П7	7	9					



20. На рисунке справа схема дорог Н-ского района изображена в виде графа, в таблице содержатся сведения о протяжённости каждой из этих дорог (в километрах).

	П1	П2	П3	П4	П5	П6	П7
П1		39	3				
П2	39			8	5		
П3	3					2	
П4		8					53
П5		5				21	30
П6			2		21		13
П7				53	30	13	

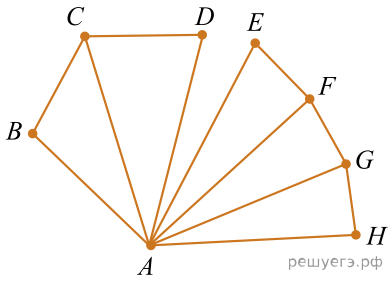


Так как таблицу и схему рисовали независимо друг от друга, то нумерация населённых пунктов в таблице никак не связана с буквенными обозначениями на графе. Определите, какова сумма протяжённости дорог из пункта D в пункт B и из пункта F в пункт A.

В ответе запишите целое число.

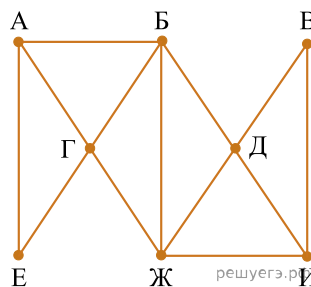
21. На рисунке справа схема дорог изображена в виде графа, в таблице содержатся сведения о длине этих дорог в километрах. Так как таблицу и схему рисовали независимо друг от друга, нумерация населённых пунктов в таблице никак не связана с буквенными обозначениями на графе. Известно, что дорога CD длиннее дороги EF. Определите сумму длин дорог AB и AG.

	П1	П2	П3	П4	П5	П6	П7	П8
П1		17					32	
П2	17						29	13
П3				16	12		33	
П4			16				28	
П5			12				38	
П6							25	15
П7	32	29	33	28	38	25		30
П8		13				15	30	



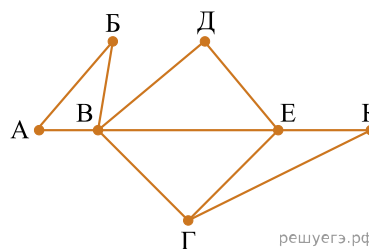
22. На рисунке схема дорог изображена в виде графа, в таблице содержатся сведения о длине этих дорог в километрах. Так как таблицу и схему рисовали независимо друг от друга, нумерация населённых пунктов в таблице никак не связана с буквенными обозначениями на графе. Известно, что дорога  $AB$  длиннее дороги  $BD$ . Определите длину дороги  $ГЖ$ .

	П1	П2	П3	П4	П5	П6	П7	П8
П1					29	36		
П2			17	18			20	23
П3		17		31			34	
П4		18	31					
П5	29					24		19
П6	36				24		16	21
П7		20	34			16		33
П8		23			19	21	33	



23. На рисунке справа схема дорог  $N$ -ского района изображена в виде графа, в таблице содержатся сведения о длинах этих дорог (в километрах).

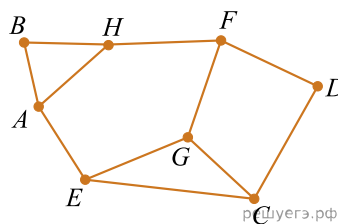
	П1	П2	П3	П4	П5	П6	П7
П1		45		10			
П2	45			40		55	
П3					15	60	
П4	10	40				20	35
П5			15			55	
П6		55	60	20	55		45
П7				35		45	



Так как таблицу и схему рисовали независимо друг от друга, нумерация населённых пунктов в таблице никак не связана с буквенными обозначениями на графе. Определите, какова длина дороги из пункта  $K$  в пункт  $E$ . В ответе запишите целое число — так, как оно указано в таблице.

24. На рисунке схема дорог N-ского района изображена в виде графа, в таблице содержатся сведения о протяженности каждой из этих дорог (в километрах).

	П1	П2	П3	П4	П5	П6	П7	П8
П1		53		1			2	
П2	53			13				8
П3					30		39	74
П4	1	13				5		
П5			30					3
П6				5			21	
П7	2		39			21		
П8		8	74		3			

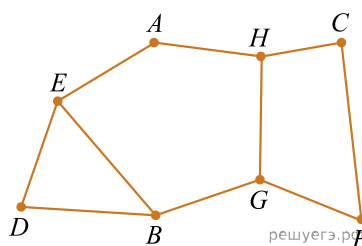


Так как таблицу и схему рисовали независимо друг от друга, нумерация населённых пунктов в таблице никак не связана с буквенными обозначениями на графе. Определите, какова сумма протяжённости дорог из пункта B в пункт H и из пункта A в пункт E.

В ответе запишите целое число.

25. На рисунке схема дорог N-ского района изображена в виде графа, в таблице содержатся сведения о протяженности каждой из этих дорог (в километрах).

	П1	П2	П3	П4	П5	П6	П7	П8
П1			2					6
П2					12			31
П3	2			35		3		
П4			35			5		
П5		12					17	
П6			3	5			1	
П7					17	1		93
П8	6	31					93	

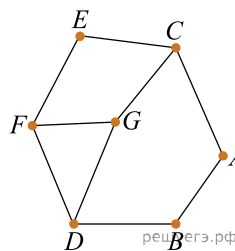


Так как таблицу и схему рисовали независимо друг от друга, нумерация населённых пунктов в таблице никак не связана с буквенными обозначениями на графе. Определите, какова сумма протяжённости дорог из пункта A в пункт E и из пункта A в пункт H.

В ответе запишите целое число.

26. На рисунке схема дорог  $N$ -ского района изображена в виде графа, в таблице содержатся сведения о протяжённости каждой из этих дорог (в километрах).

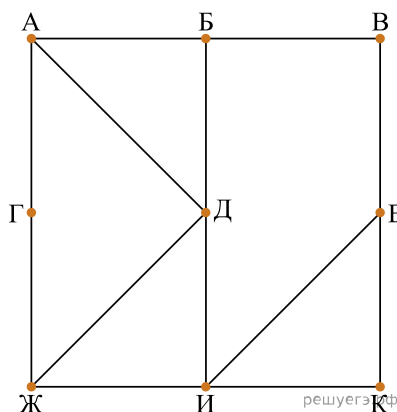
	П1	П2	П3	П4	П5	П6	П7
П1				30	3		5
П2				21		13	
П3					39	53	2
П4	30	21					
П5	3		39			8	
П6		13	53		8		
П7	5		2				



Так как таблицу и схему рисовали независимо друг от друга, нумерация населённых пунктов в таблице никак не связана с буквенными обозначениями на графе. Определите, какова сумма протяжённости дорог из пункта  $D$  в пункт  $G$  и из пункта  $A$  в пункт  $C$ . В ответе запишите целое число.

27. На рисунке схема дорог изображена в виде графа, в таблице звёздочками обозначено наличие дороги между населёнными пунктами.

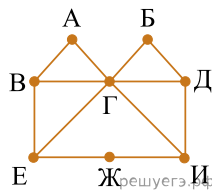
	П1	П2	П3	П4	П5	П6	П7	П8	П9
П1					*			*	
П2			*		*				
П3		*		*	*				*
П4			*				*		*
П5	*	*	*						
П6							*	*	*
П7				*		*			
П8	*					*			*
П9			*	*		*		*	



Так как таблицу и схему рисовали независимо друг от друга, нумерация населённых пунктов в таблице никак не связана с буквенными обозначениями на графе. Выпишите последовательно без пробелов и знаков препинания указанные на графе буквенные обозначения пунктов от П1 до П9: сначала букву, соответствующую П1, затем букву, соответствующую П2, и т. д.

28. На рисунке справа схема дорог N-ского района изображена в виде графа, в таблице содержатся сведения о длинах этих дорог (в километрах). Так как таблицу и схему рисовали независимо друг от друга, то нумерация населённых пунктов в таблице никак не связана с буквенными обозначениями на графе.

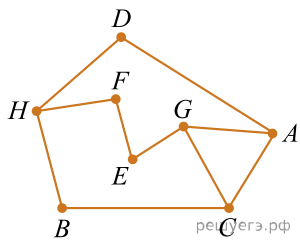
	П1	П2	П3	П4	П5	П6	П7	П8
П1		26				13		
П2	26		20	30		19	25	11
П3		20					15	
П4		30			16		12	
П5				16				28
П6	13	19						14
П7		25	15	12				
П8		11			28	14		



Определите сумму протяженностей дорог пункта А в пункт Г и из пункта Г в пункт И, если известно, что длина дороги ВЕ меньше, чем длина дороги ДИ. В ответе запишите целое число.

29. На рисунке схема дорог N-ского района изображена в виде графа, в таблице содержатся сведения о протяженности каждой из этих дорог (в километрах).

	П1	П2	П3	П4	П5	П6	П7	П8
П1		15			24			12
П2	15						13	
П3					18	43		
П4						9		41
П5	24		18					39
П6			43	9			37	
П7		13				37		
П8	12			41	39			

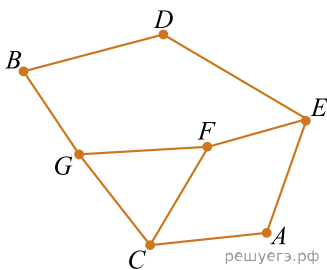


Так как таблицу и схему рисовали независимо друг от друга, нумерация населённых пунктов в таблице никак не связана с буквенными обозначениями на графе. Определите, какова сумма протяженностей дорог из пункта G в пункт E и из пункта F в пункт H.

В ответе запишите целое число.

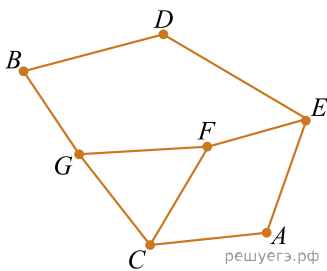
30. На рисунке схема дорог  $N$ -ского района изображена в виде графа, в таблице содержатся сведения о протяжённости каждой из этих дорог (в километрах). Так как таблицу и схему рисовали независимо друг от друга, нумерация населённых пунктов в таблице никак не связана с буквенными обозначениями на графе. Определите, какова сумма протяжённости дорог из пункта  $B$  в пункт  $G$  и из пункта  $E$  в пункт  $A$ . В ответе запишите целое число.

	П1	П2	П3	П4	П5	П6	П7
П1						17	23
П2			7		20	3	
П3		7		88			1
П4			88		13		
П5		20		13		11	
П6	17	3			11		
П7	23		1				



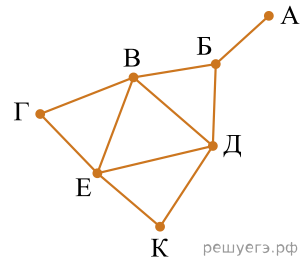
31. На рисунке схема дорог  $N$ -ского района изображена в виде графа, в таблице содержатся сведения о протяжённости каждой из этих дорог (в километрах). Так как таблицу и схему рисовали независимо друг от друга, нумерация населённых пунктов в таблице никак не связана с буквенными обозначениями на графе. Определите, какова сумма протяжённости дорог из пункта  $E$  в пункт  $D$  и из пункта  $C$  в пункт  $A$ . В ответе запишите целое число.

	П1	П2	П3	П4	П5	П6	П7
П1						17	23
П2			7		20	3	
П3		7		88			1
П4			88		13		
П5		20		13		11	
П6	17	3			11		
П7	23		1				



32. На рисунке схема дорог  $N$ -ского района изображена в виде графа, в таблице содержатся сведения о протяжённости каждой из этих дорог (в километрах).

	П1	П2	П3	П4	П5	П6	П7
П1		4					5
П2	4				8	9	6
П3						10	7
П4					11		
П5		8		11		12	
П6		9	10		12		13
П7	5	6	7			13	



Так как таблицу и схему рисовали независимо друг от друга, нумерация населённых пунктов в таблице никак не связана с буквенными обозначениями на графе. Определите, какова протяжённость дороги из пункта В в пункт Д. В ответе запишите целое число — так, как оно указано в таблице.