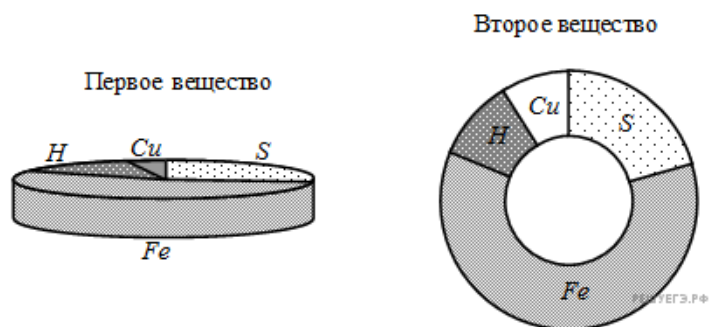
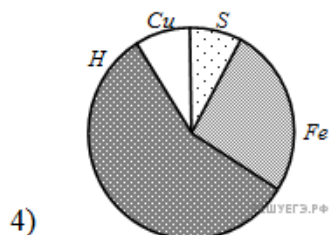
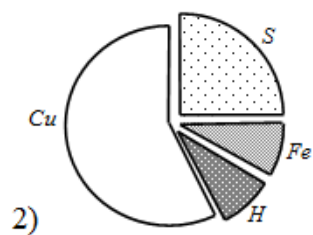
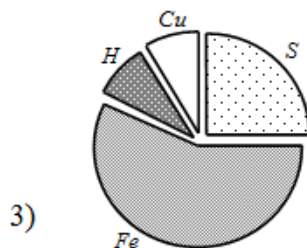
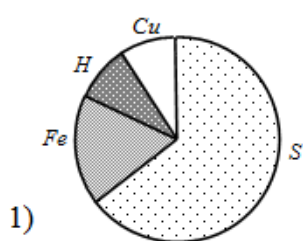


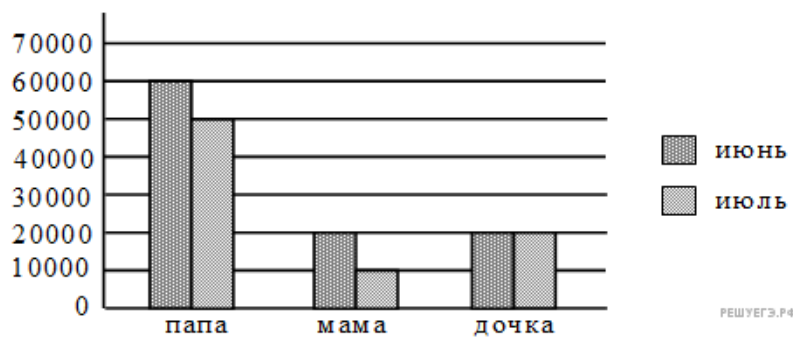
1. Сплавляются два вещества, состоящие из серы, железа, водорода и меди. Массовые доли серы (S), железа (Fe), водорода (H) и меди (Cu) в каждом веществе приведены на диаграммах.



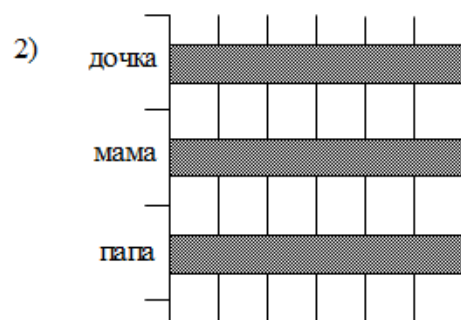

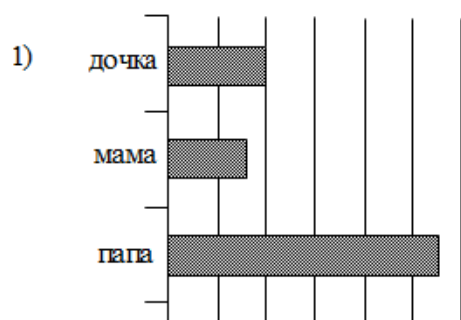
Определите, какая из диаграмм правильно отражает соотношение элементов в сплаве.



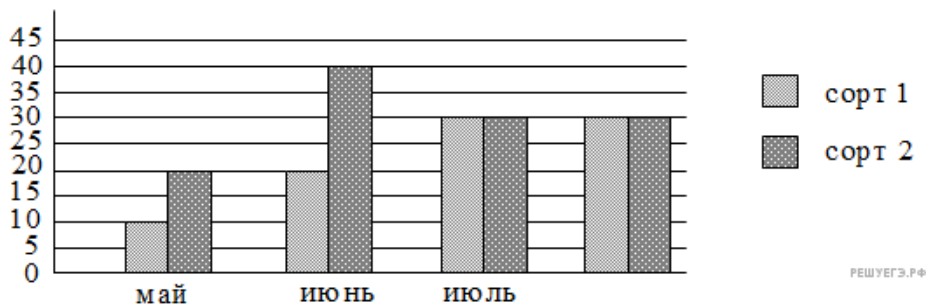
2. На диаграмме представлен уровень зарплат трех членов семьи за два месяца.



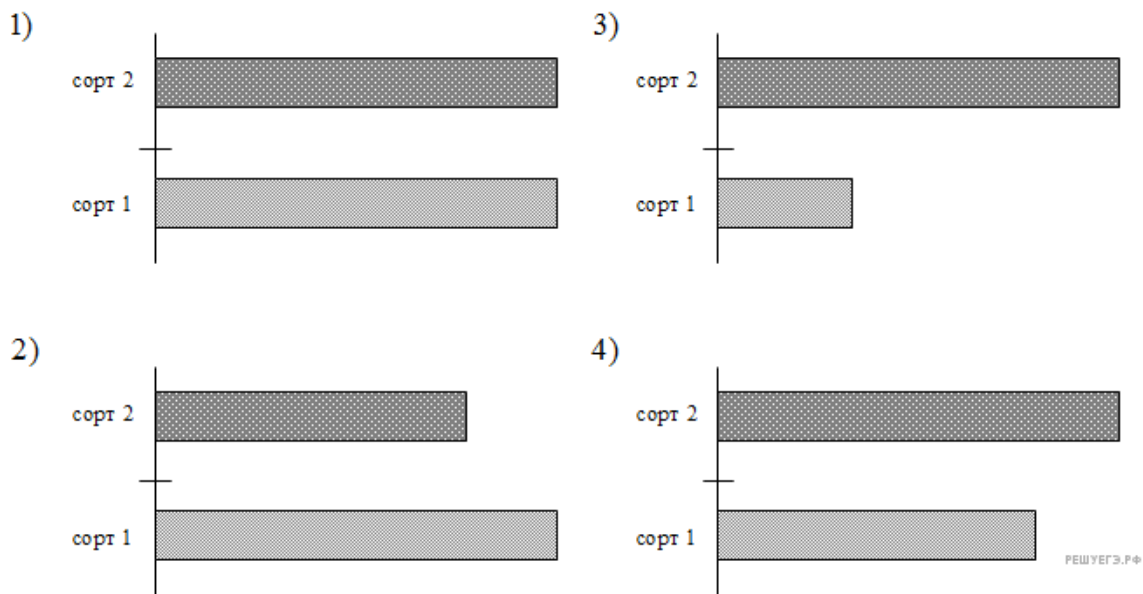
Какая из диаграмм правильно отражает суммарный за два месяца доход каждого члена семьи?



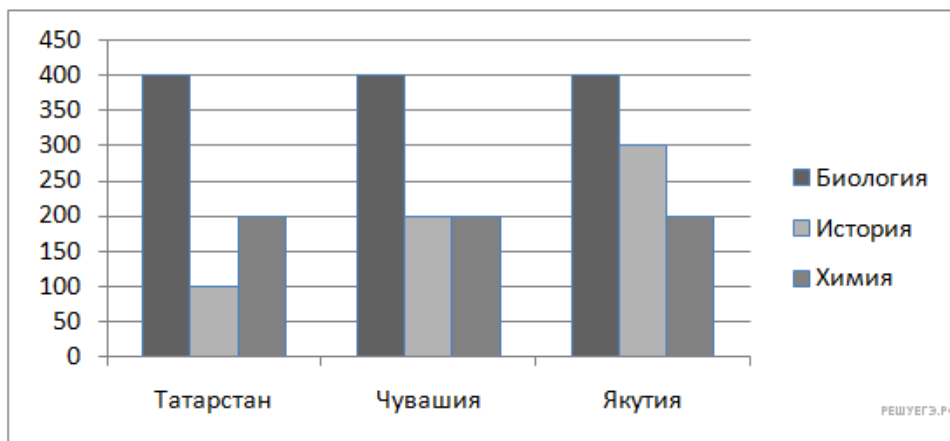
3. Диаграмма отражает количество (в килограммах) собранного за четыре месяца урожая двух сортов огурцов в парниковом хозяйстве.



Какая из диаграмм правильно отражает объемы суммарного за четыре месяца собранного урожая по каждому из сортов?



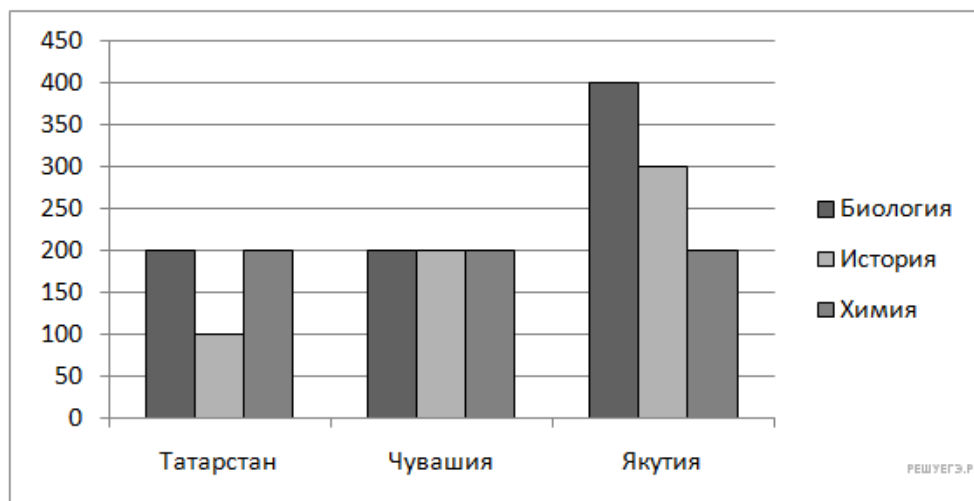
4. На диаграмме показано количество участников тестирования по предметам в разных регионах России.



Какая из диаграмм правильно отражает соотношение общего количества участников (из всех трех регионов) по каждому из предметов тестирования?



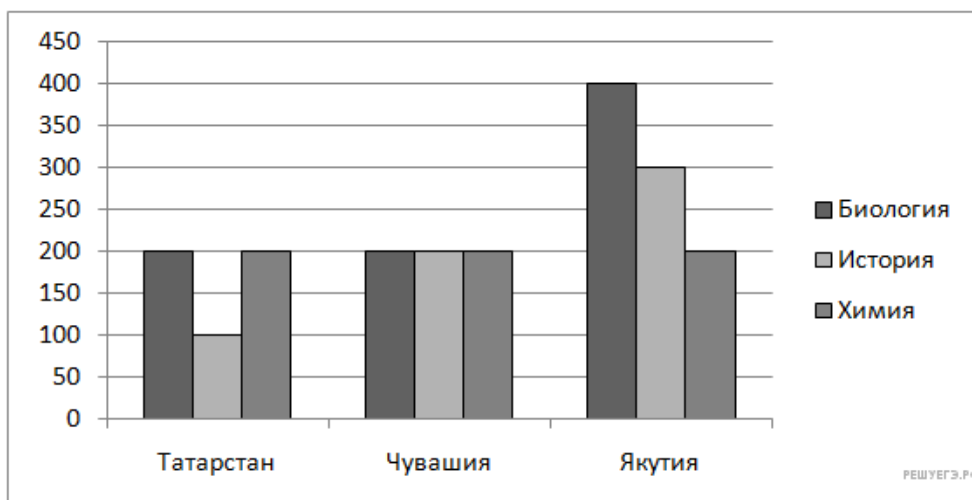
5. На диаграмме показано количество участников тестирования по предметам в разных регионах России.



Какая из диаграмм правильно отражает соотношение общего количества участников тестирования по регионам?



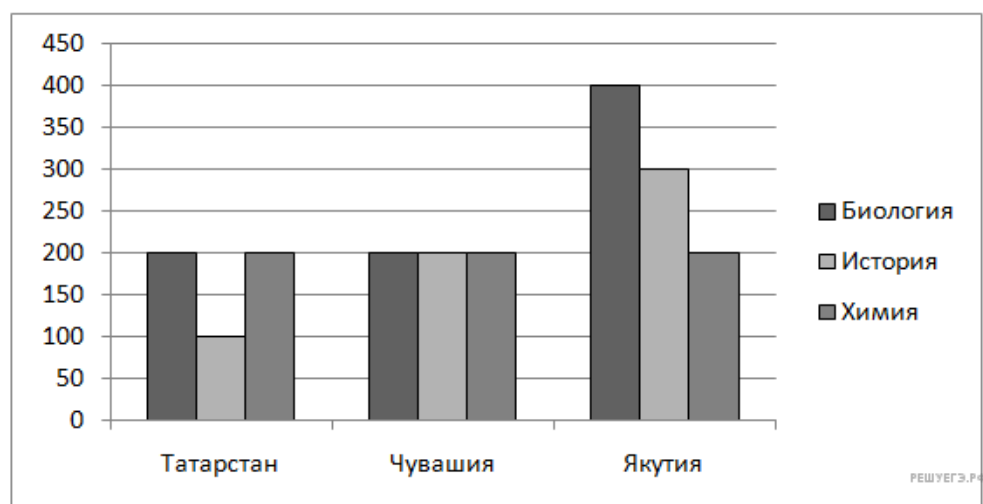
6. На диаграмме показано количество участников тестирования по предметам в разных регионах России.



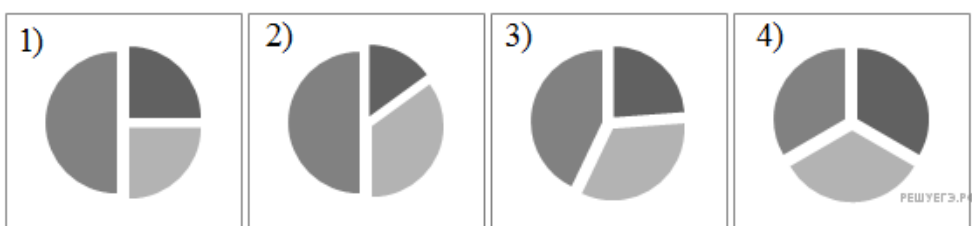
Какая из диаграмм правильно отражает соотношение количества участников тестирования по химии в регионах?



7. На диаграмме показано количество участников тестирования по предметам в разных регионах России.



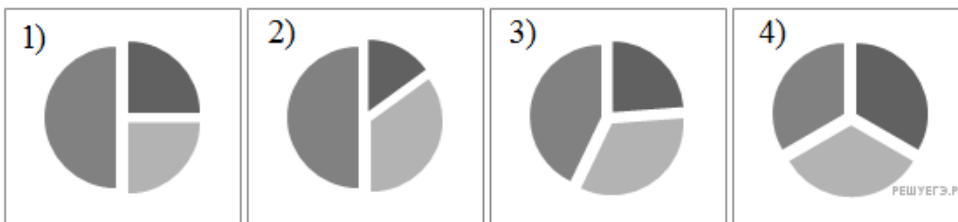
Какая из диаграмм правильно отражает соотношение количества участников тестирования по истории в регионах?



8. На диаграмме показано количество участников тестирования по предметам в разных регионах России.

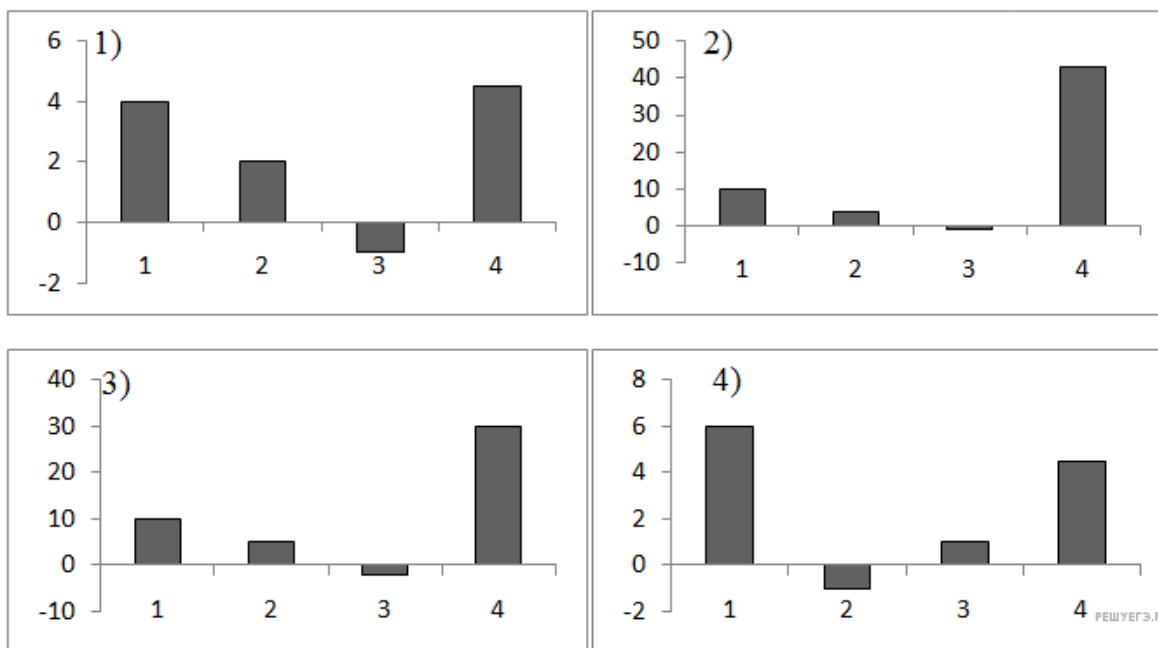


Какая из диаграмм правильно отражает соотношение количества участников тестирования по русскому языку в регионах?

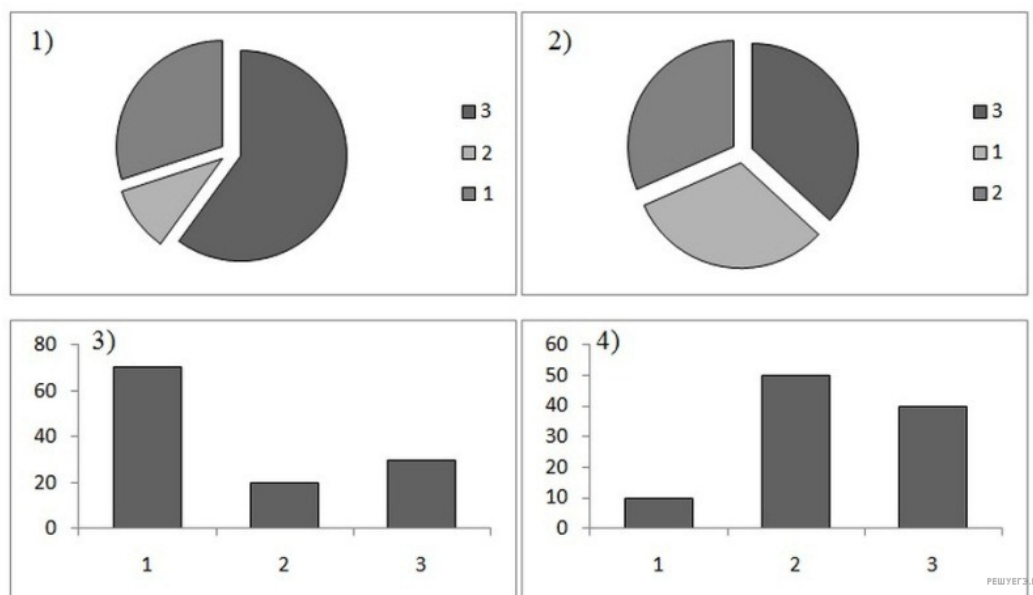


9. В таблице представлены средние рыночные цены для 4-х типов товаров на начало и конец года. Какая из диаграмм наиболее верно отражает рост цен этих товаров в процентах относительно начала года?

№ товара	Начало года	Конец года
1	45	49
2	25	26
3	89	88
4	14	20



10. На протяжении 3-х минут центральный процессор компьютера был загружен следующим образом: 1-ю минуту был загружен на 30%, 2-ю — на 10% и 3-ю — на 60%. Какая из диаграмм соответствует загруженности процессора на протяжении 3-х минут?



11. Выделение памяти для программы менялось в течение 3-х минут следующим образом: в 1-ю минуту было выделено 10 Мб, во 2-ю – 50Мб, в 3-ю – 40 Мб. Какая из диаграмм соответствует изменению выделяемой памяти в течение 3-х минут?

