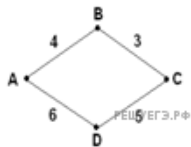
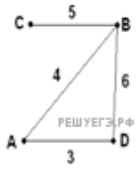
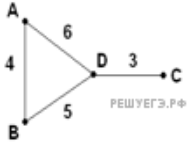
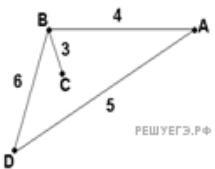


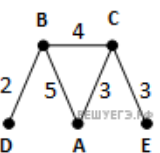
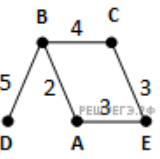
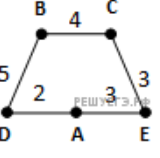
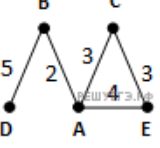
1. В таблице приведена стоимость перевозок между соседними железнодорожными станциями. Укажите схему, соответствующую таблице.

	A	B	C	D
A		4		5
B	4		3	6
C		3		
D	5	6		

- 1) 
- 2) 
- 3) 
- 4) 

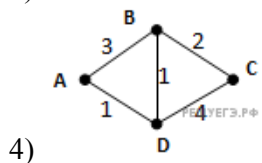
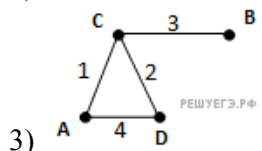
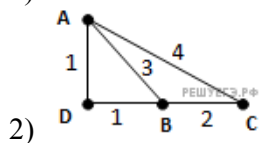
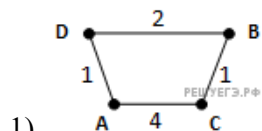
2. В таблице приведена стоимость перевозки пассажиров между соседними населенными пунктами. Укажите схему, соответствующую таблице.

	A	B	C	D	E
A		5	3		
B	5		4	2	
C	3	4			3
D		2			
E			3		

- 1) 
- 2) 
- 3) 
- 4) 

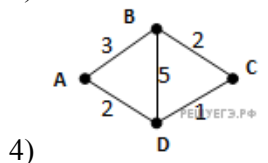
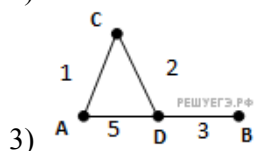
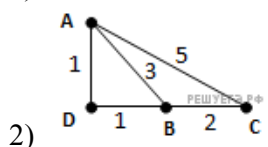
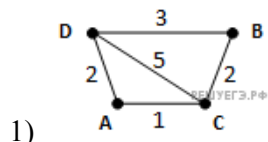
3. В таблице приведена стоимость перевозки пассажиров между соседними населенными пунктами. Укажите схему, соответствующую таблице.

	A	B	C	D
A		3		1
B	3		2	1
C		2		4
D	1	1	4	



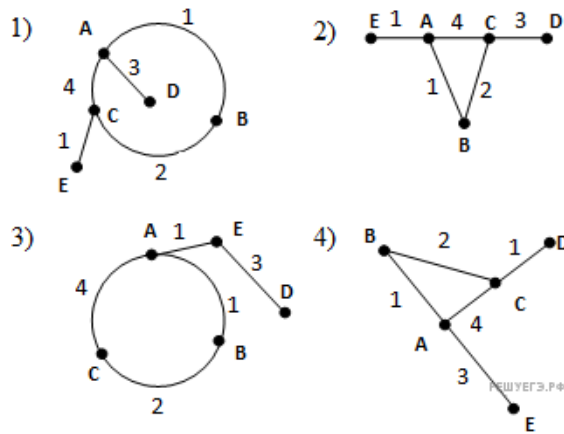
4. В таблице приведена стоимость перевозки пассажиров между соседними населенными пунктами. Укажите схему, соответствующую таблице.

	A	B	C	D
A			1	2
B			2	3
C	1	2		5
D	2	3	5	



5. В таблице приведена стоимость перевозки пассажиров между соседними населенными пунктами. Укажите схему, соответствующую таблице.

	A	B	C	D	E
A		1	4		1
B	1		2		
C	4	2		3	
D			3		
E	1				



6. В таблице приведена стоимость перевозки пассажиров между соседними населенными пунктами. Укажите схему, соответствующую таблице.

	A	B	C	D	E
A		2	4	1	
B	2				
C	4				5
D	1				4
E			5	4	

