

1. Дан фрагмент электронной таблицы:

	A	B	C
1	4	2	
2	$=2*(A1-C1)$	$=(2*B1+A1)/4$	$=C1-1$



Какое целое число должно быть записано в ячейке C1, чтобы построенная после выполнения вычислений диаграмма по значениям диапазона ячеек A2:C2 соответствовала рисунку?

2. Дан фрагмент электронной таблицы:

	A	B	C
1	4	2	
2	$=A1+C1$	$=B1+A1$	$=3*C1$



Какое целое число должно быть записано в ячейке C1, чтобы построенная после выполнения вычислений диаграмма по значениям диапазона ячеек A2:C2 соответствовала рисунку?

3. Дан фрагмент электронной таблицы:

	A	B	C
1	2	4	
2	$=(B1 - A1)/2$	$=2 - A1/2$	$=(C1 - A1)*2 - 4$



Какое целое число должно быть записано в ячейке C1, чтобы построенная после выполнения вычислений диаграмма по значениям диапазона ячеек A2 : C2 соответствовала рисунку? Известно, что все значения диапазона, по которым построена диаграмма, имеют один и тот же знак.

4. Дан фрагмент электронной таблицы:

	A	B	C
1	2		$=A1+1$
2	$=C1-B1$	$=(3*B1+C1)/3$	$=B2+A1$



Какое число должно быть записано в ячейке B1, чтобы построенная после выполнения вычислений диаграмма по значениям диапазона ячеек A2:C2 соответствовала рисунку? Известно, что все значения диапазона, по которым построена диаграмма, имеют один и тот же знак.

5. Дан фрагмент электронной таблицы:

	A	B	C
1	2	1	
2	$=C1-B1*5$	$=(B1+C1)/A1$	$=C1-5$



Какое число должно быть записано в ячейке C1, чтобы построенная после выполнения вычислений диаграмма по значениям диапазона ячеек A2:C2 соответствовала рисунку?

Известно, что все значения диапазона, по которым построена диаграмма, имеют один и тот же знак.

6. Дан фрагмент электронной таблицы:

	A	B	C
1	2	1	
2	$=C1-B1*3$	$=(B1+C1)/A1$	$=C1-3$

Какое число должно быть записано в ячейке C1, чтобы построенная после выполнения вычислений диаграмма по значениям диапазона ячеек A2:C2 соответствовала рисунку?

Известно, что все значения диапазона, по которым построена диаграмма, имеют один и тот же знак.



7. Дан фрагмент электронной таблицы.

	A	B	C
1	5		$=A1*2$
2	$=(B1-A1)/2$	$=B1-C1$	$=B2+A1$



Какое число должно быть записано в ячейке B1, чтобы построенная после выполнения вычислений диаграмма по значениям диапазона ячеек A2:C2 соответствовала рисунку?

Известно, что все значения диапазона, по которым построена диаграмма, имеют один и тот же знак.

8. Дан фрагмент электронной таблицы

	A	B	C
1	2		=A1*4
2	=B1/A1	=C1/B1	=B2+A1

Какое число должно быть записано в ячейке B1, чтобы построенная после выполнения вычислений диаграмма по значениям диапазона ячеек A2:C2 соответствовала рисунку?



Известно, что все значения диапазона, по которым построена диаграмма, имеют один и тот же знак.

9. Дан фрагмент электронной таблицы:

	A	B	C
1	5		=A1*2
2	=B1/5	=A1/B1	=B2+C1/10

Какое число должно быть записано в ячейке B1, чтобы построенная после выполнения вычислений диаграмма по значениям диапазона ячеек A2:C2 соответствовала рисунку?



Известно, что все значения диапазона, по которым построена диаграмма, имеют один и тот же знак.

10.

Дан фрагмент электронной таблицы:

	A	B	C
1	2		44
2	=C1 - B1*B1*5	=(B1*B1+C1)/A1	=C1-20



Какое целое число должно быть записано в ячейке B1, чтобы построенная после выполнения вычислений диаграмма по значениям диапазона ячеек A2:C2 соответствовала рисунку? Известно, что все значения диапазона A1 :C2 имеют один и тот же знак.

11. Дан фрагмент электронной таблицы:

	A	B	C
1	20		48
2	=C1 - B1*B1*5	=(B1*B1+C1+3)/A1	=C1-45

Какое целое число должно быть записано в ячейке B1, чтобы построенная после выполнения вычислений диаграмма по значениям диапазона ячеек A2:C2 соответствовала рисунку?

Известно, что все значения диапазона A1 :C2 имеют один и тот же знак.



12. Дан фрагмент электронной таблицы:

	A	B	C
1	7		=A1*3
2	=(B1 - A1)/3	=B1 - C1	=B2+A1


Какое число должно быть записано в ячейке B1, чтобы построенная после выполнения вычислений диаграмма по значениям диапазона ячеек A2:C2 соответствовала рисунку?

Известно, что все значения диапазона, по которым построена диаграмма, положительны.



13. Дан фрагмент электронной таблицы:

	A	B	C
1	5		=A1*3
2	=(B1 - A1)/3	=B1 - C1	=B2+A1



Какое число должно быть записано в ячейке B1, чтобы построенная после выполнения вычислений диаграмма по значениям диапазона ячеек A2:C2 соответствовала рисунку?

Известно, что все значения диапазона, по которым построена диаграмма, положительны.

14. Дан фрагмент электронной таблицы:

	A	B	C
1	20		48
2	=C1-B1*B1*5	=2*(B1*B1*B1+3)/A1	=C1-15*B1

Какое число должно быть записано в ячейке B1, чтобы построенная после выполнения вычислений диаграмма по значениям диапазона ячеек A2:C2 соответствовала рисунку?



Известно, что все значения диапазона A1:C2 имеют один и тот же знак.

15. Дан фрагмент электронной таблицы:

	A	B	C
1	20		35
2	=C1-2*B1*B1	=(B1*B1*B1-4)/A1	=C1-8*B1

Какое число должно быть записано в ячейке B1, чтобы построенная после выполнения вычислений диаграмма по значениям диапазона ячеек A2:C2 соответствовала рисунку?



Известно, что все значения диапазона A1:C2 имеют один и тот же знак.

16. Дан фрагмент электронной таблицы:

	A	B	C
1	3	5	
2	=(C1+3)/(A1-1)	=(B1+3)/(C1+3)	=(4*C1+6)/(A1+2)



Какое целое число должно быть записано в ячейке C1, чтобы построенная после выполнения вычислений диаграмма по значениям диапазона ячеек A2:C2 соответствовала рисунку?

Известно, что все значения диапазона, по которым построена диаграмма, имеют один и тот же знак.

17. Дан фрагмент электронной таблицы:

	A	B	C
1	4	5	
2	$=(C1+3)/(A1+4)$	$=B1/(C1-3)$	$=(A1+1)/(2*C1-2*B1)$

Какое целое число должно быть записано в ячейке C1, чтобы построенная после выполнения вычислений диаграмма по значениям диапазона ячеек A2:C2 соответствовала рисунку?

Известно, что все значения диапазона, по которым построена диаграмма, имеют один и тот же знак.



18. Дан фрагмент электронной таблицы:

	A	B	C
1	4	3	
2	$=(C1+2)/(A1+4)$	$=2*A1/(C1+2)$	$=3/(C1-B1)$

Какое целое число должно быть записано в ячейке C1, чтобы построенная после выполнения вычислений диаграмма по значениям диапазона ячеек A2:C2 соответствовала рисунку?

Известно, что все значения диапазона, по которым построена диаграмма, имеют один и тот же знак.



19. Дан фрагмент электронной таблицы:

	A	B	C
1	2		2
2	$=B2$	$=(B1-2)/A1$	$=B2+C1$



Какое целое число должно быть записано в ячейке B1, чтобы построенная после выполнения вычислений диаграмма по значениям диапазона ячеек A2:C2 соответствовала рисунку?

Известно, что все значения диапазона, по которым построена диаграмма, имеют один и тот же знак.

20. Дан фрагмент электронной таблицы:

	A	B	C
1	9	7	
2	$=(C1+1)/(A1-1)$	$=(A1-B1)/(C1+1)$	$=(A1-4)/(C1+7)$

Какое целое число должно быть записано в ячейке C1, чтобы построенная после выполнения вычислений диаграмма по значениям диапазона ячеек A2:C2 соответствовала рисунку?

Известно, что все значения диапазона, по которым построена диаграмма, имеют один и тот же знак.



21. Дан фрагмент электронной таблицы:

	A	B	C
1	4	5	
2	$=(C1+3)/(A1+4)$	$=B1/(C1-3)$	$=(A1+1)/(2*C1-2*B1)$

Какое целое число должно быть записано в ячейке C1, чтобы построенная после выполнения вычислений диаграмма по значениям диапазона ячеек A2:C2 соответствовала рисунку?

Известно, что все значения диапазона, по которым построена диаграмма, имеют один и тот же знак.



22. Дан фрагмент электронной таблицы:

	A	B	C
1	4	6	
2	$=(C1+2)/(4*A1)$	$=1/(C1+2)$	$=3/(3*C1+B1)$



Какое целое положительное число должно быть записано в ячейке C1, чтобы построенная после выполнения вычислений диаграмма по значениям диапазона ячеек A2:C2 соответствовала рисунку?

Известно, что все значения диапазона, по которым построена диаграмма, имеют один и тот же знак.

23. Дан фрагмент электронной таблицы:

	A	B	C
1	8		6
2	$=(B1+1)/(2*A1)$	$=1/(B1+1)$	$=3/(2*B1+C1)$



Какое целое число должно быть записано в ячейке B1, чтобы построенная после выполнения вычислений диаграмма по значениям диапазона ячеек A2:C2 соответствовала рисунку?

Известно, что все значения диапазона, по которым построена диаграмма, имеют один и тот же знак.

24. Дан фрагмент электронной таблицы:

	A	B	C
1	2		1
2	$=B2$	$=(B1-3)/A1$	$=B2+C1$



Какое целое число должно быть записано в ячейке B1, чтобы построенная после выполнения вычислений диаграмма по значениям диапазона ячеек A2:C2 соответствовала рисунку?

Известно, что все значения диапазона, по которым построена диаграмма, имеют один и тот же знак.

25. Дан фрагмент электронной таблицы:

	A	B	C
1	2		1
2	$=B2$	$=(B1-5)/A1$	$=B2+C1$



Какое целое число должно быть записано в ячейке B1, чтобы построенная после выполнения вычислений диаграмма по значениям диапазона ячеек A2:C2 соответствовала рисунку?

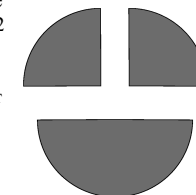
Известно, что все значения диапазона, по которым построена диаграмма, имеют один и тот же знак.

26. Дан фрагмент электронной таблицы:

	A	B	C
1		2	4
2	$=(A1-5)/B1$	$=A2+C1$	$=A2$

Какое целое число должно быть записано в ячейке A1, чтобы построенная после выполнения вычислений диаграмма по значениям диапазона ячеек A2:C2 соответствовала рисунку?

Известно, что все значения диапазона, по которым построена диаграмма, имеют один и тот же знак.

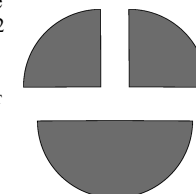


27. Дан фрагмент электронной таблицы:

	A	B	C
1		2	3
2	$=(A1-5)/B1$	$=A2+C1$	$=A2$

Какое целое число должно быть записано в ячейке A1, чтобы построенная после выполнения вычислений диаграмма по значениям диапазона ячеек A2:C2 соответствовала рисунку?

Известно, что все значения диапазона, по которым построена диаграмма, имеют один и тот же знак.

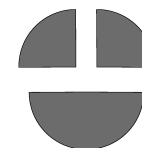


28. Дан фрагмент электронной таблицы:

	A	B	C
1		3	2
2	$=(A1-6)/B1$	$=A2+C1$	$=A2$

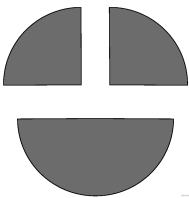
Какое целое число должно быть записано в ячейке A1, чтобы построенная после выполнения вычислений диаграмма по значениям диапазона ячеек A2:C2 соответствовала рисунку?

Известно, что все значения диапазона, по которым построена диаграмма, имеют один и тот же знак.



29. Дан фрагмент электронной таблицы:

	A	B	C
1		3	1
2	$=(A1-2)/B1$	$=A2+C1$	$=A2$

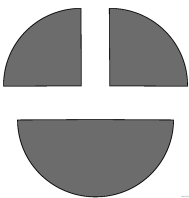


Какое целое число должно быть записано в ячейке A1, чтобы построенная после выполнения вычислений диаграмма по значениям диапазона ячеек A2:C2 соответствовала рисунку?

Известно, что все значения диапазона, по которым построена диаграмма, имеют один и тот же знак.

30. Дан фрагмент электронной таблицы:

	A	B	C
1		3	1
2	$=(A1-2)/(B1-1)$	$=A2+C1$	$=A2$



Какое целое число должно быть записано в ячейке A1, чтобы построенная после выполнения вычислений диаграмма по значениям диапазона ячеек A2:C2 соответствовала рисунку?

Известно, что все значения диапазона, по которым построена диаграмма, имеют один и тот же знак.

31. Дан фрагмент электронной таблицы:

	A	B	C
1	8		6
2	$=(B1+1)/(2*A1)$	$1/(B1+1)$	$=3/(2*B1+C1)$



Какое целое число должно быть записано в ячейке B1, чтобы построенная после выполнения вычислений диаграмма по значениям диапазона ячеек A2:C2 соответствовала рисунку?

Известно, что все значения диапазона, по которым построена диаграмма, имеют один и тот же знак.

32. Дан фрагмент электронной таблицы:

	A	B	C
1	3		$=A1*9$
2	$=B1/A1$	$=C1/B1$	$=B2+A1$



Какое число должно быть записано в ячейке B1, чтобы построенная после выполнения вычислений диаграмма по значениям диапазона ячеек A2:C2 соответствовала рисунку? Известно, что все значения диапазона A1:C2 имеют один и тот же знак.

33. Дан фрагмент электронной таблицы:

	A	B	C
1	4		$=A1*25$
2	$=B1/A1$	$=C1/B1$	$=B2+C1/20$



Какое число должно быть записано в ячейке B1, чтобы построенная после выполнения вычислений диаграмма по значениям диапазона ячеек A2:C2 соответствовала рисунку? Известно, что все значения диапазона A1:C2 имеют один и тот же знак.

34. Дан фрагмент электронной таблицы:

	A	B	C
1	2		2
2	$=B2$	$=(B1-5)/A1$	$=B2+C1$



Какое целое число должно быть записано в ячейке B1, чтобы построенная после выполнения вычислений диаграмма по значениям диапазона ячеек A2:C2 соответствовала рисунку?

Известно, что все значения диапазона, по которым построена диаграмма, имеют один и тот же знак.

35. Дан фрагмент электронной таблицы:

	A	B	C
1	2		2
2	$=B2$	$=(B1-1)/A1$	$=B2+C1$



Какое целое число должно быть записано в ячейке B1, чтобы построенная после выполнения вычислений диаграмма по значениям диапазона ячеек A2:C2 соответствовала рисунку?

Известно, что все значения диапазона, по которым построена диаграмма, имеют один и тот же знак.

36. Дан фрагмент электронной таблицы:

	A	B	C
1	6	4	
2	$=(2*C1-6)/(A1-1)$	$=2*(B1+1)/(C1-3)$	$=2*(A1+B1)/(C1+2)$



Какое целое число должно быть записано в ячейке C1, чтобы построенная после выполнения вычислений диаграмма по значениям диапазона ячеек A2:C2 соответствовала рисунку? Известно, что все значения диапазона, по которым построена диаграмма, имеют один и тот же знак.

37. Дан фрагмент электронной таблицы:

	A	B	C
1	7	3	
2	$=(C1-2)/(A1-4)$	$=(B1+1)/(C1+2)$	$=(A1-B1)/(C1+2)$



Какое целое число должно быть записано в ячейке C1, чтобы построенная после выполнения вычислений диаграмма по значениям диапазона ячеек A2:C2 соответствовала рисунку? Известно, что все значения диапазона, по которым построена диаграмма, положительны.

38. Дан фрагмент электронной таблицы:

	A	B	C
1	7	1	
2	$=(C1-1)/(A1-3)$	$=B1/(C1-1)$	$=(A1-4*B1)/(C1+3)$



Какое целое число должно быть записано в ячейке C1, чтобы построенная после выполнения вычислений диаграмма по значениям диапазона ячеек A2:C2 соответствовала рисунку? Известно, что все значения диапазона, по которым построена диаграмма, имеют один и тот же знак.

39.

Дан фрагмент электронной таблицы:

	A	B	C
1	2	3	
2	$=5*B1-2*C1$	$=C1+A1-2$	$=(C1-4)*(A1+B1)$



Какое целое число должно быть записано в ячейке C1, чтобы построенная после выполнения вычислений диаграмма по значениям диапазона ячеек A2:C2 соответствовала рисунку? Известно, что все значения диапазона, по которым построена диаграмма, имеют один и тот же знак.

40.

Дан фрагмент электронной таблицы:

	A	B	C
1	3	5	
2	$=2*C1-B1-2*A1$	$=C1+A1-2$	$=(C1-9)*B1-2$



Какое целое число должно быть записано в ячейке C1, чтобы построенная после выполнения вычислений диаграмма по значениям диапазона ячеек A2:C2 соответствовала рисунку? Известно, что все значения диапазона, по которым построена диаграмма, имеют один и тот же знак.

41.

Дан фрагмент электронной таблицы:

	A	B	C
1	12		$=A1*4$
2	$=B1/A1$	$=C1/B1$	$=B2+A1/6$



Какое целое число должно быть записано в ячейке B1, чтобы построенная после выполнения вычислений диаграмма по значениям диапазона ячеек A2:C2 соответствовала рисунку? Известно, что все значения диапазона, по которым построена диаграмма, имеют один и тот же знак.

42.

Дан фрагмент электронной таблицы:

	A	B	C
1	15		$=A1*25$
2	$=B1/A1$	$=C1/B1$	$=B2+A1/3$



Какое целое число должно быть записано в ячейке B1, чтобы построенная после выполнения вычислений диаграмма по значениям диапазона ячеек A2:C2 соответствовала рисунку? Известно, что все значения диапазона, по которым построена диаграмма, имеют один и тот же знак.

43.

Дан фрагмент электронной таблицы:

	A	B	C
1	3	5	
2	$=2C1-11$	$=C1+1$	$=B1(C1-A1*3)-2$



Какое целое число должно быть записано в ячейке C1, чтобы построенная после выполнения вычислений диаграмма по значениям диапазона ячеек A2:C2 соответствовала рисунку? Известно, что все значения диапазона, по которым построена диаграмма, имеют один и тот же знак.

44.

Дан фрагмент электронной таблицы:

	A	B	C
1	11		$=A1*2$
2	$=(B1-A1)/2$	$=B1-C1$	$=B2+A1$



Какое целое число должно быть записано в ячейке B1, чтобы построенная после выполнения вычислений диаграмма по значениям диапазона ячеек A2:C2 соответствовала рисунку? Известно, что все значения диапазона, по которым построена диаграмма, имеют один и тот же знак.

45.

Дан фрагмент электронной таблицы:

	A	B	C
1	7		=A1*2
2	=(B1-A1)/2	=B1-C1	=B2+A1



Какое целое число должно быть записано в ячейке B1, чтобы построенная после выполнения вычислений диаграмма по значениям диапазона ячеек A2:C2 соответствовала рисунку? Известно, что все значения диапазона, по которым построена диаграмма, имеют один и тот же знак.

46.

Дан фрагмент электронной таблицы:

	A	B	C
1	6	25	
2	=A1 - C1	=B1/(A1-C1)	=A1 + 4*C1



Какое целое число должно быть записано в ячейке C1, чтобы диаграмма, построенная после выполнения вычислений по значениям диапазона ячеек A2:C2, соответствовала рисунку? Значения во всех ячейках диапазона A1:C2 одного знака.

47.

Дан фрагмент электронной таблицы:

	A	B	C
1	9	36	
2	=A1-C1	=B1/(A1-C1)	=A1+C1



Какое целое число должно быть записано в ячейке C1, чтобы построенная после выполнения вычислений по значениям диапазона ячеек A2:C2, соответствовала рисунку? Значения во всех ячейках диапазона A1:C2 одного знака.

48. Дан фрагмент электронной таблицы.

	A	B	C
1	1		3
2	=A1+2*B1+1	=C1-A1	=(C1+A1)/2



Какое целое число должно быть записано в ячейке B1, чтобы построенная после выполнения вычислений диаграмма по значениям диапазона ячеек A2:C2 соответствовала рисунку?

Известно, что все значения диапазона, по которым построена диаграмма, имеют один и тот же знак.

49. Дан фрагмент электронной таблицы.

	A	B	C
1		3	2
2	=A1-C1	=4*C1-A1	=3*(B1+C1)/A1



Какое целое число должно быть записано в ячейке A1, чтобы диаграмма, построенная после выполнения вычислений по значениям диапазона ячеек A2:C2, соответствовала рисунку? Значения во всех ячейках диапазона A1:C2 одного знака.

50. Дан фрагмент электронной таблицы.

	A	B	C
1		3	2
2	=A1-C1	=6*C1-A1	=5*(B1+2*C1)/A1



Какое целое число должно быть записано в ячейке A1, чтобы диаграмма, построенная после выполнения вычислений по значениям диапазона ячеек A2:C2, соответствовала рисунку? Значения во всех ячейках диапазона A1:C2 одного знака.

51. Дан фрагмент электронной таблицы.

	A	B	C
1	1	6	
2	=A1+B1/2	=(1+A1+B1)/4	=(C1-1)*2



Какое целое число должно быть записано в ячейке C1, чтобы построенная после выполнения вычислений диаграмма по значениям диапазона ячеек A2:C2 соответствовала рисунку?

Известно, что все значения диапазона, по которым построена диаграмма, имеют один и тот же знак.

52. Дан фрагмент электронной таблицы.

	A	B	C
1		4	6
2	=(A1-2)/(B1-1)	=C1*B1/(4*A1+4)	=C1/(A1-2)



Какое целое число должно быть записано в ячейке A1, чтобы диаграмма, построенная по значениям ячеек диапазона A2:C2, соответствовала рисунку? Известно, что все значения ячеек из рассматриваемого диапазона неотрицательны.



53. Дан фрагмент электронной таблицы:

	A	B	C
1		3	4
2	$=(A1 + B1 + 2)/(C1 - B1)$	$=(2 * C1 - 2) / A1$	$=B1 * C1 / (B1 - A1)$



Какое целое число должно быть записано в ячейке A1, чтобы построенная после выполнения вычислений диаграмма по значениям диапазона ячеек A2:C2 соответствовала рисунку?

54. Дан фрагмент электронной таблицы.

	A	B	C
1	4		8
2	$=(B1 + 1) * A1$	$=(B1 + 1) * (B1 + 3)$	$=A1 * C1 / (2 * B1 + 2)$

Какое целое число должно быть записано в ячейке B1, чтобы построенная после выполнения вычислений диаграмма по значениям диапазона ячеек A2:C2 соответствовала рисунку?

Известно, что все значения диапазона, по которым построена диаграмма, имеют один и тот же знак.



55. Дан фрагмент электронной таблицы.

	A	B	C
1		2	8
2	$=(A1 + 1) * B1 * 3$	$=(A1 + 1) * (A1 + 3)$	$=A1 * C1 / (A1 - 2)$

Какое целое число должно быть записано в ячейке A1, чтобы построенная после выполнения вычислений диаграмма по значениям диапазона ячеек A2:C2 соответствовала рисунку? Известно, что все значения диапазона, по которым построена диаграмма, имеют один и тот же знак.



56. Дан фрагмент электронной таблицы.

	A	B	C
1	4	10	
2	$=(C1 - 5) / (4 * A1)$	$=1 / (C1 + 1)$	$=3 / (2 * C1 + B1)$



Какое целое число должно быть записано в ячейке C1, чтобы диаграмма, построенная по значениям ячеек диапазона A2:C2, соответствовала рисунку? Известно, что все значения ячеек из рассматриваемого диапазона неотрицательны.

57.

Дан фрагмент электронной таблицы.

	A	B	C
1		3	10
2	$=(A1 - 3) / (B1 + 3)$	$=(A1 - 2) / (C1 - 3)$	$=C1 / (A1 - 4)$



Какое целое число должно быть записано в ячейке A1, чтобы диаграмма, построенная по значениям ячеек диапазона A2:C2, соответствовала рисунку? Известно, что все значения ячеек из рассматриваемого диапазона неотрицательны.

58. Дан фрагмент электронной таблицы.

	A	B	C	D
1	7	...	4	5
2	$=B2 + C2 + D2$	$=C2$	$=(A1 - D1) * (B1 - 3)$	$=(A1 - D1) * C1$

Какое целое число должно быть записано в ячейке B1, чтобы диаграмма, построенная по значениям ячеек диапазона A2:D2, соответствовала рисунку? Известно, что все значения ячеек из рассматриваемого диапазона неотрицательны.



59. Дан фрагмент электронной таблицы.

	A	B	C	D
1	9	...	2	5
2	=B2+C2+D2	=C2	=(A1-D1)*(B1-5)	=(A1-D1)*C1

Какое целое число должно быть записано в ячейке B1, чтобы диаграмма, построенная по значениям ячеек диапазона A2:D2, соответствовала рисунку? Известно, что все значения ячеек из рассматриваемого диапазона неотрицательны.

